

OPERAZIONI INVERSE (+ E -)

 Osserva e completa.



Numero rose:

Numero tulipani:

Fiori totali: + = 10

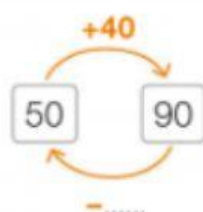
Fiori totali:

Numero rose: 4

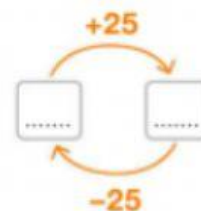
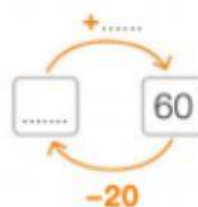
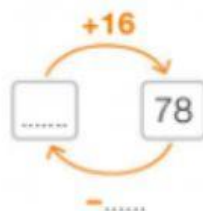
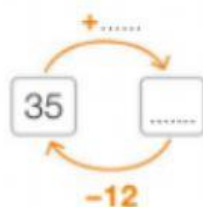
Numero tulipani: - =

- Che cosa noti? Con gli stessi numeri posso risolvere due problemi con due operazioni diverse perché addizione e sono operazioni inverse.

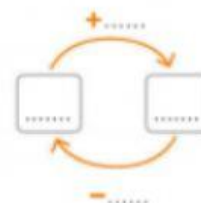
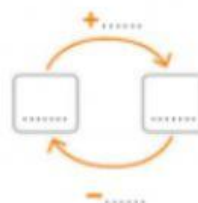
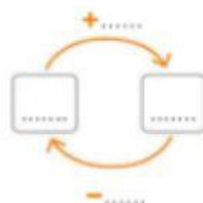
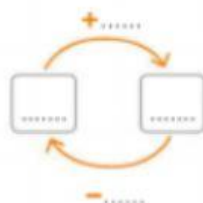
 Osserva e completa.



 Completa.



 Ora inventa tu quattro addizioni e quattro sottrazioni tra loro inverse.



- **Prerequisito didattico:** addizione e sottrazione.
- **Funzione cognitiva:** funzioni esecutive, memoria di lavoro.
- **Obiettivo didattico:** sviluppa automatismi algoritmici.