

ESCUELA DE EDUCACIÓN BÁSICA "EDUARDO KINGMAN"



eduardokingman13@hotmail.com

Sibambe # 510 y Ambato

LECCIÓN DE CIENCIAS NATURALES

AÑO BÁSICO: 2DO

NOMBRE: _____



1. Arrastra los nombres de las partes del cuerpo humano donde correspondan.



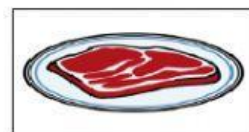
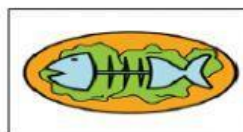
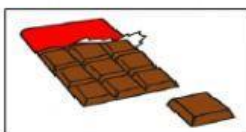

TRONCO

EXTREMIDADES
INFERIORES


CABEZA

EXTREMIDADES
SUPERIORES

2. Selecciona los alimentos que ayudan a mantener una buena salud.



3. Une con línea el órgano del cuerpo humano con la función que realiza



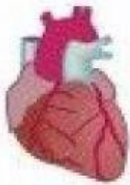
Recibir el
aire

Bombear
sangre

Digerir
alimentos

Dirigir todo
el cuerpo

4. Completa los nombres de los órganos que forman el cuerpo humano.



C _ _ _ _ n



P _ _ _ _ s



E _ _ _ _ o

5. Relaciona con una línea según corresponda

BEBER AGUA

COMER DULCES Y CHUCHES

NO LAVARSE LAS MANOS

COMER FRUTA

HÁBITOS NO SALUDABLES

HÁBITOS SALUDABLES