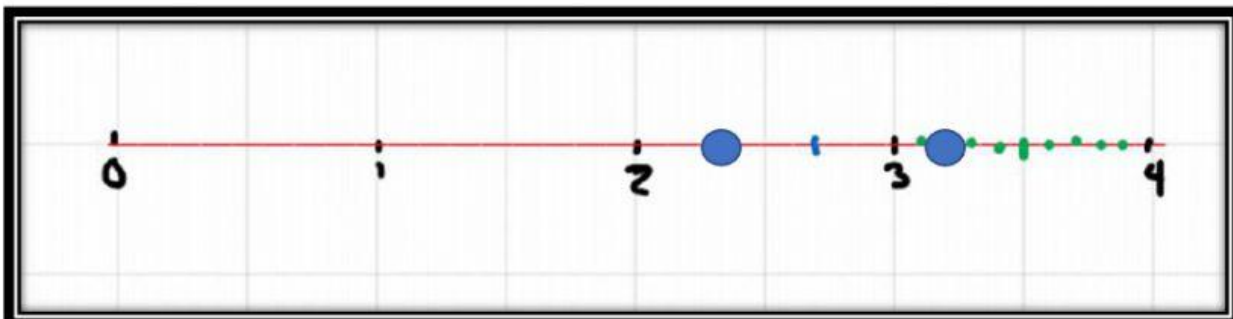
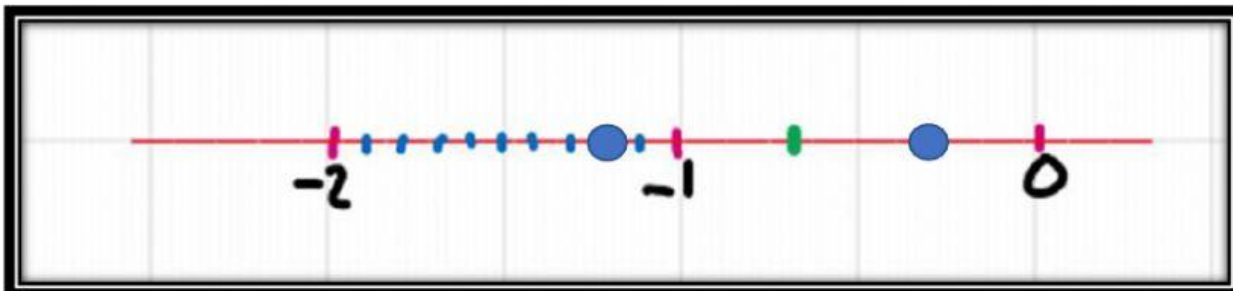
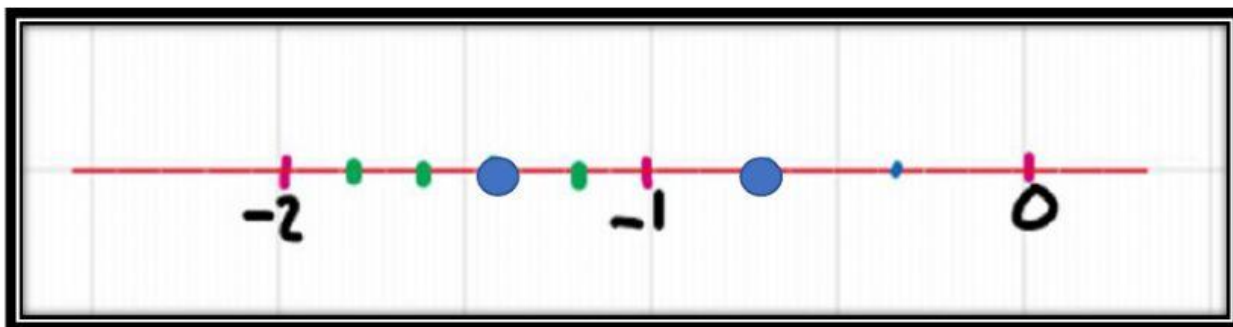
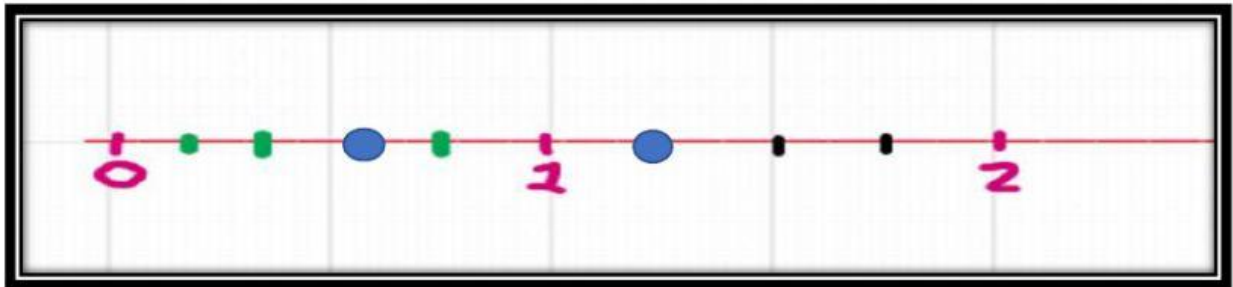



## LOS RACIONALES EN LA RECTA NUMÉRICA

NOMBRE: \_\_\_\_\_ NIVEL: \_\_\_\_\_ FECHA: \_\_\_\_\_ CALIF. \_\_\_\_\_

I PARTE: Arrastra las fracciones correspondientes a cada punto en las siguientes rectas numéricas.



II PARTE: SELECCIONA ENTRE CADA PAR DE NÚMEROS, LOS SÍMBOLOS  $>$ ,  $<$ ,  $=$  SEGÚN CORRESPONDA. PARA ELLO GUÍATE CON LA ACTIVIDAD DE LA PARTE ANTERIOR.

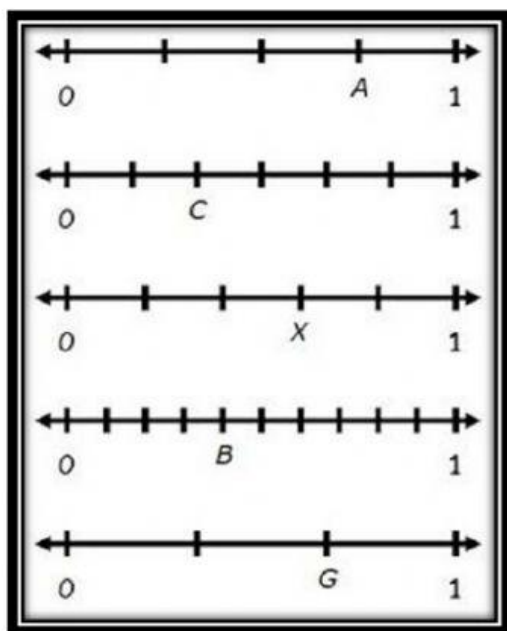
$$\frac{7}{3} \begin{array}{|c|} \hline < \\ \hline \\ \hline > \\ \hline \end{array} 3.2$$

$$-\frac{1}{3} \begin{array}{|c|} \hline < \\ \hline \\ \hline > \\ \hline \end{array} -1.2$$

$$-\frac{7}{5} \begin{array}{|c|} \hline < \\ \hline \\ \hline > \\ \hline \end{array} -\frac{2}{3}$$

$$\frac{5}{4} \begin{array}{|c|} \hline < \\ \hline \\ \hline > \\ \hline \end{array} \frac{3}{5}$$

III PARTE: OBSERVA LAS SIGUIENTES RECTAS NUMÉRICAS. Escribe el número racional correspondiente a cada letra.



$$A = \boxed{\phantom{00}}$$

$$B = \boxed{\phantom{00}}$$

$$C = \boxed{\phantom{00}}$$

$$G = \boxed{\phantom{00}}$$

$$X = \boxed{\phantom{00}}$$