




LA LUNA A LO LARGO DEL MES

Alrededor de algunos planetas se desplazan otros cuerpos llamados satélites. La Luna es el satélite que gira alrededor de la Tierra.

A medida que gira, desde la Tierra se ve cambiar las partes de la Luna iluminadas por el Sol: son las fases de la Luna.



Leé estas afirmaciones y seleccioná a qué fase lunar corresponde cada uno.

-  En esta fase observamos que la mitad izquierda de la luna está iluminada. _____
-  A la semana siguiente, la Luna se encuentra totalmente iluminada. _____
-  Siete días más tarde, observamos iluminada la mitad derecha de la luna. _____
-  Cuando llega esta fase, ya no distinguimos ningún sector iluminado. _____