

Prueba de Matemáticas
"Medición"
Primer año básico

NOTA:

Profesora: Francisca López / Estudiante en práctica: Yairo Peñaloza
 Puntaje ideal: 30 puntos

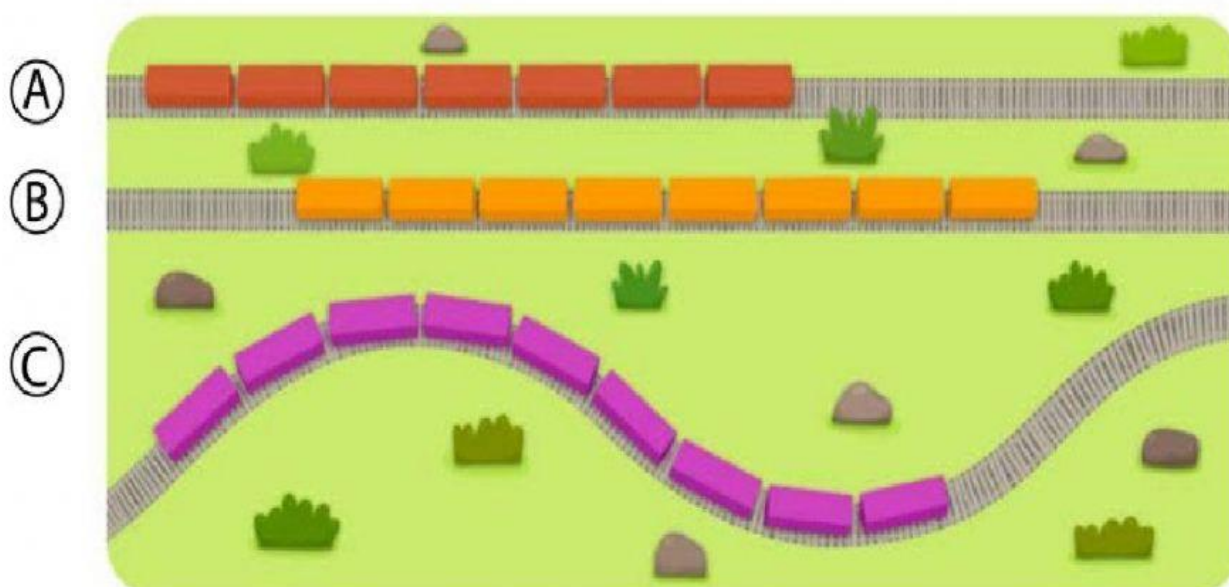
Puntaje	% logro	Nota	Formativa
30	100%	70	MB

Objetivo: Demostrar que maneja el concepto de medición, juzgando el largo de objetos en comparación a otros, y utilizando unidades no estandarizadas para calcular la longitud de imágenes que se le presentan.

Instrucciones: Lea cuidadosamente las indicaciones de cada ítem.

ÍTEM 1. Debes marcar con una x sobre la letra que muestre el tren más largo. Para descubrirlo, puedes contar cuántos vagones tiene cada uno de los trenes

(2 puntos)



Ítem 2

En este ítem, debes pinchar sobre la imagen que corresponda a la alternativa correcta! (2 puntos cada una)

¿En qué actividad demoro más tiempo?



Dormir



Cantar



Lavar los dientes

¿En qué actividad demoro menos tiempo?



Hacer tarea



Lavar mis manos



Comer

¿En qué actividad demoro más tiempo?



Barrer






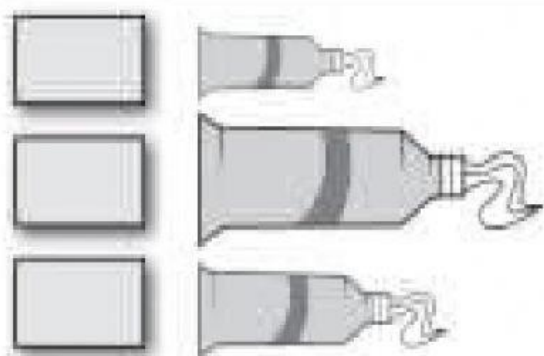
Cocinar



Sacar la basura

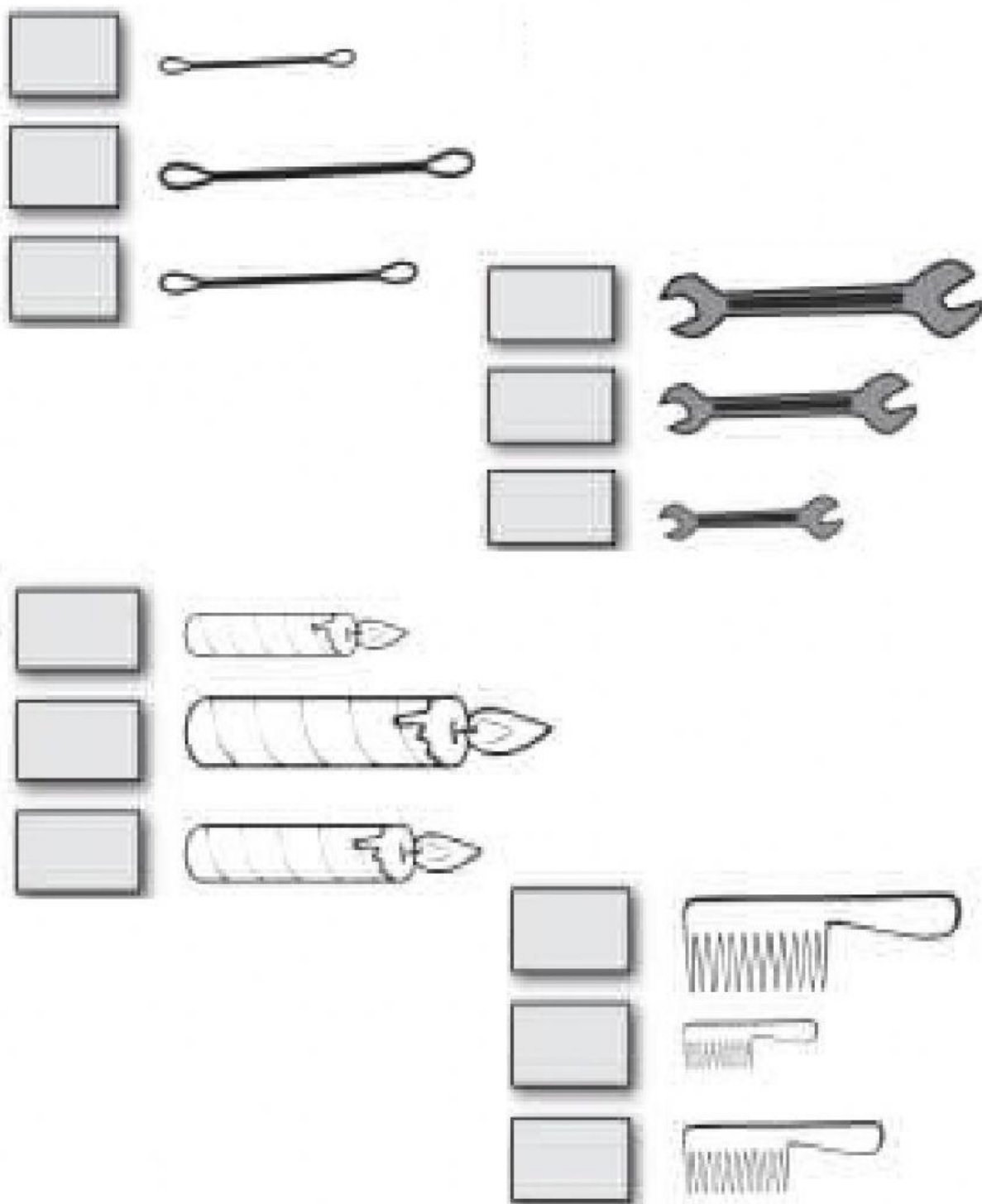
Ítem 3. En esta actividad, tenemos que ordenar cada grupo de objetos utilizando los números 1, 2 y 3. Para eso, deben hacer click en cada uno de los recuadros y después elegir el número correcto.

El número 1 será para el más corto; el 2, para el mediano; y el 3, para el más largo. (2 puntos por cada grupo de objetos)



Ítem 4. En esta actividad, tenemos que ordenar cada grupo de objetos utilizando los números del 1 al 3. Para eso, deben hacer click en cada uno de los recuadros y después elegir el número correcto.


El número 1 para el objeto más largo, el 2 para el mediano y el 3 para el más corto. (2 puntos por cada grupo de objetos)



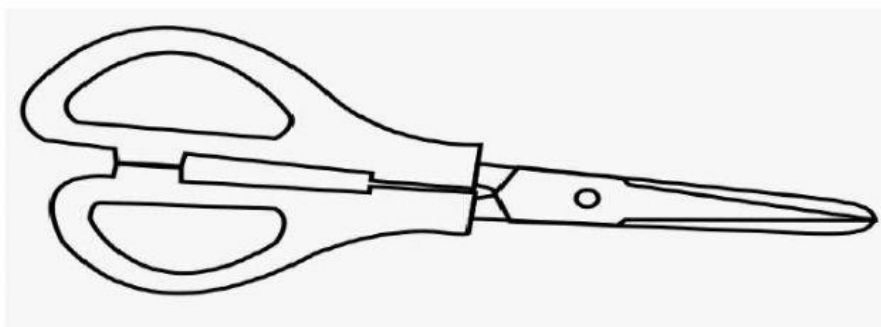
Ítem 5. Calcula cuántas hormigas mide cada objeto.

En la línea que está en blanco, debes hacer click y elegir la opción correcta!
(2 puntos cada una)

a) El hueso mide _____ hormigas de largo



b) La tijera mide _____ hormigas de largo



c) El lápiz mide _____ hormigas de largo

