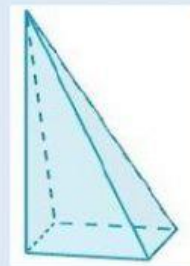
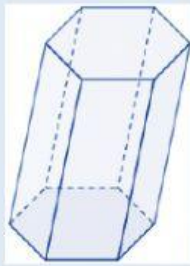


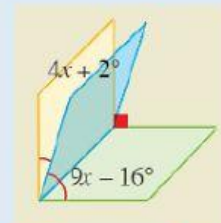
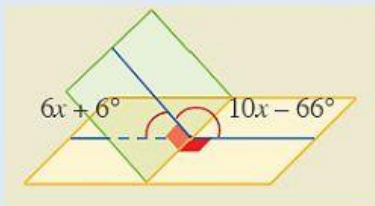
Geometría del Espacio - 2

Resuelve cada situación problemática.

1. Determina cuántos ángulos diedros hay en cada sólido geométrico. Anota solo el valor numérico.



2. Calcula el valor de x en cada gráfico. Anota solo el valor numérico



3. Resuelve:

La foto de la derecha corresponde a una parte del dormitorio de Agustín.

- a. ¿Qué puedes decir de la recta l_1 con respecto al piso del dormitorio?

- b. ¿Cuántos ángulos diedros observas?

- c. Si las dos paredes son perpendiculares, ¿cuánto mide \widehat{CDE} ?

