


CIENCIAS NATURALES
Profesora Macarena Gutierrez

Fecha 17/11/2020


3º año

EVALUACION INTEGRAL

1. ¿cuál es el objeto de estudio de la Educación Ambiental?



2. ¿Qué significa ENDEMICO?

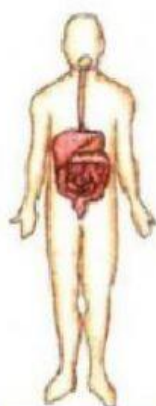


3. Completa el cuadro comparativo.

COMPARACIÓN ENTRE LOS DOS GRUPOS DE REPRODUCCIÓN		
	Sexual	Asexual
Ventajas		
Desventajas		

4. Une con flechas según corresponda.

SISTEMAS QUE INTERVIENEN EN LA FUNCIÓN DE NUTRICIÓN



Digestivo

Transporta nutrientes, oxígeno y sustancias de desecho.



Respiratorio

Obtiene oxígeno y expulsa dióxido de carbono.



Circulatorio

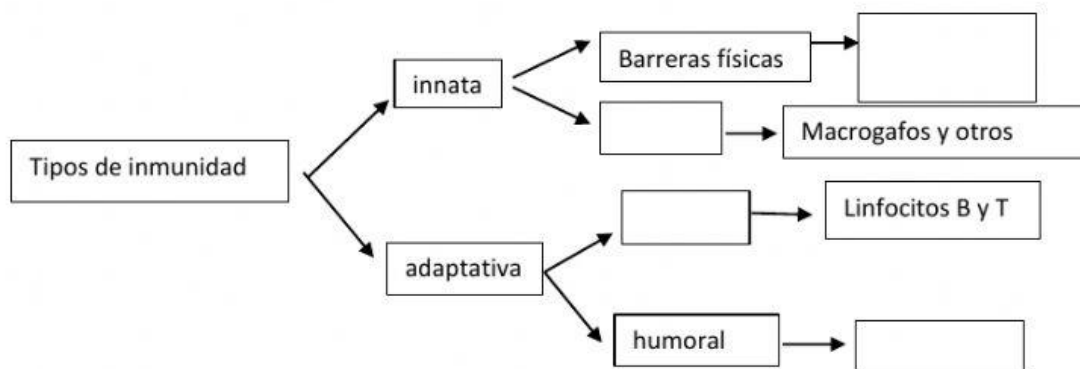
Elimina sustancias de desecho de la actividad celular.



Excretor

Transforma los alimentos.

5. Completa el siguiente esquema referido a las defensas del organismo.



6. Explica brevemente en qué consisten las leyes de Mendel.