


## Склад числа 8

1. Запиши склад числа 8.



$8=7+1$

$8=1+7$

$8=\square+\square$

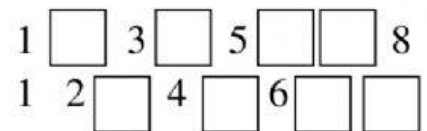
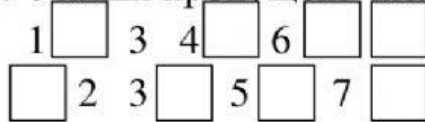
$8=\square+\square$

$8=\square+\square$

$8=\square+\square$

$8=\square+\square$

2. Упиши пропущені числа.



3. Порівняй і постав потрібні знаки.


$6 \square 8$   
 $7 \square 5$

$5 \square 6$   
 $8 \square 3$

$7 \square 4$   
 $8 \square 8$

4. Прочитай вірш. Запиши відповідь.

Ось до класу на урок  
 Залетіло п'ять сорок,  
 Три пізніше прибуло.  
 Скільки всіх птахів було?



5. Встанови відповідність.

