



Matemática Segundo Semestre
Segundo Grado.
Práctica asincrónica 16 al 29 de noviembre.
Tema: Medidas de longitud.

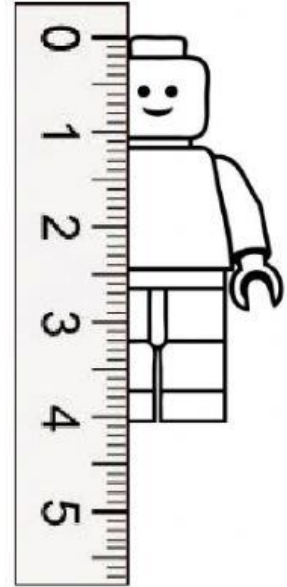


T. Arelys Fuentes
2º 2020

Nombre: _____


Señale la letra que tiene la respuesta correcta en cada caso.

1. ¿Cuántos centímetros de alto mide el lego?




a. 0 cm.	b. 1 cm.	c. 4 cm.
----------	----------	----------

2. ¿Cuántos centímetros de ancho mide el lego?



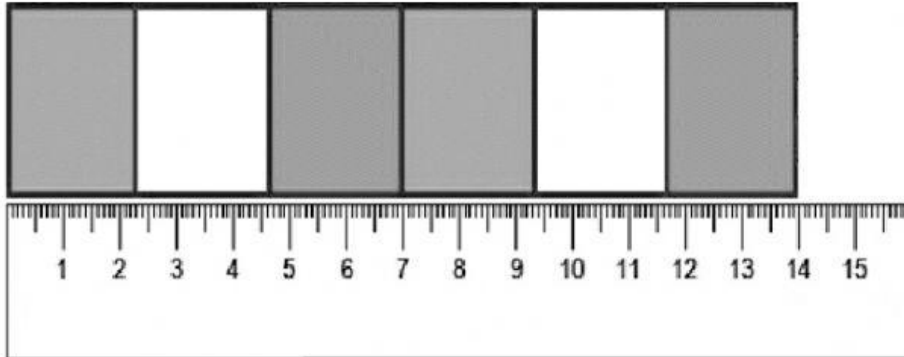
a. 0 cm.	b. 1 cm.	c. 4 cm.
----------	----------	----------

3. ¿Cuántos centímetros de largo mide el rectángulo?



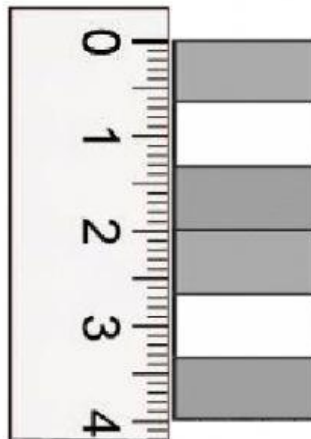
a. 0 cm.	b. 6 cm.	c. 10 cm.
----------	----------	-----------

4. ¿Cuántos centímetros de largo mide la figura?




a. 10 cm.	b. 12 cm.	c. 14 cm.
-----------	-----------	-----------

5. ¿Cuántos centímetros de largo mide la figura?



a. 4 cm.	b. 6 cm.	c. 10 cm.
----------	----------	-----------

6. ¿Cuál es la medida utilizada en la imagen?



a. Jeme.	b. Cuarta.	c. Codo.
----------	------------	----------

7. ¿Qué nombre recibe la medida mostrada en la imagen?



a. Jeme.	b. Cuarta.	c. Codo.
----------	------------	----------

8. ¿Qué nombre recibe la medida arbitraria que utiliza la señora?



a. Pie.	b. Codo.	c. Jeme.
---------	----------	----------