

Nama: _____

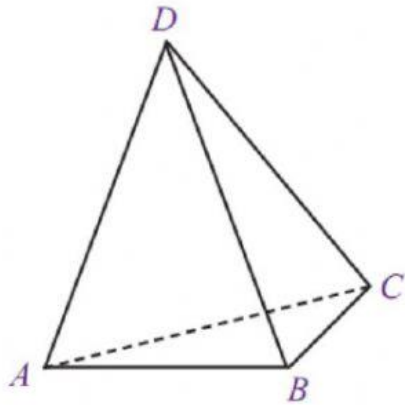
Kelas: 2 _____

Presensi: _____

LATIHAN SOAL MATEMATIKA MATERI BANGUN RUANG

Tujuan: menyimpulkan ruas garis yang membatasi model bangun ruang secara tepat

A. Perhatikan gambar di bawah ini dan tentukan bagian mana yang menunjukkan rusuk!

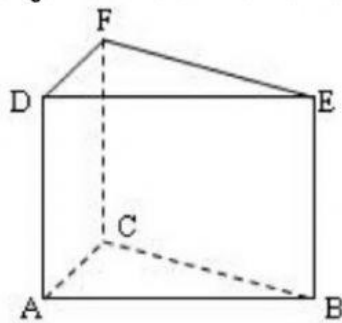


A, B, C, D

AB, AC, BC, CB, CD, , AC

ABC, ABD, BCD, ACD

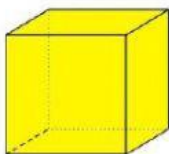
B. Perhatikan gambar di bawah ini dan tuliskan nama semua rusuk (ruas garis) dari bangun ruang di bawah ini!



Jawab, pisahkan setiap rusuk dengan tanda koma (,)

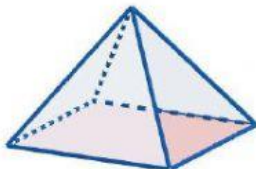
C. Hubungkan dengan garis gambar bangun ruang di bawah ini sesuai dengan jumlah rusuknya!

1.



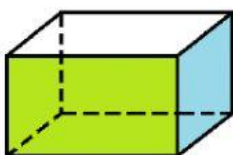
Rusuk = 8

2.



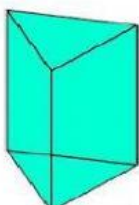
Rusuk = 12

3.



Rusuk = 9

4.



Rusuk = 12