

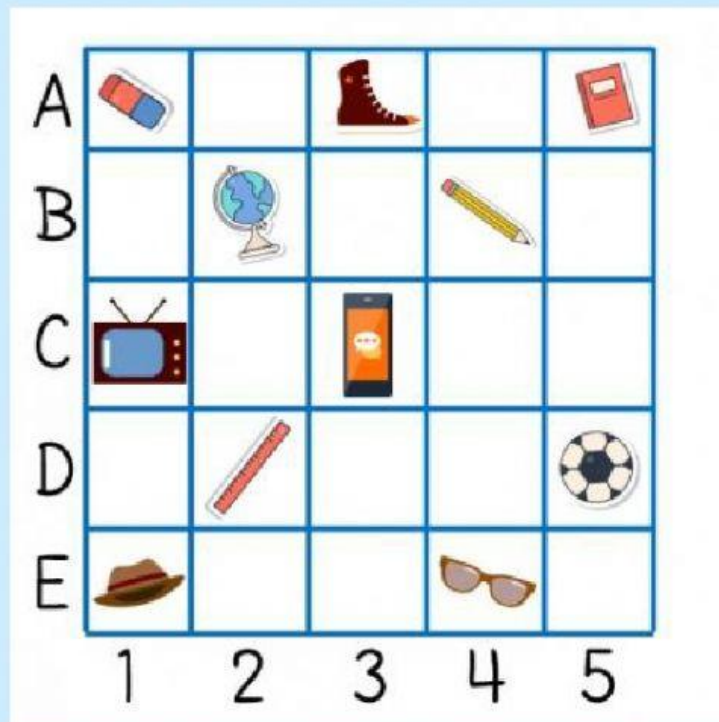
SOAL LATIHAN MATEMATIKA DENAH

Nama :

Kls/No. :

Pilihlah jawaban yang paling benar !

Untuk menjawab soal nomor 1 – 3, perhatikan beberapa benda di bawah ini !



1. Handphone terletak pada koordinat

- a. (3, C) c. (C, 3)
b. (2, D) d. (5, D)

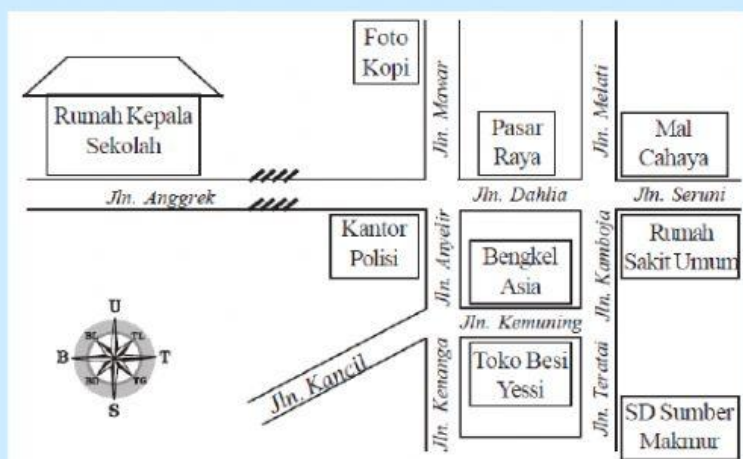
2. Benda yang berada pada koordinat (2, B) adalah

- a. Penggaris
b. Globe
c. Pensil
d. Kacamata

3. Topi berada pada koordinat

- a. (E, 1) c. (1, A)
b. (5, D) d. (1, E)

Perhatikan gambar denah di bawah ini untuk menjawab soal nomor 4 – 7 !



4. Pasar Raya berada di sebelah Mal Cahaya.

- a. Timur
b. Selatan
c. Utara
d. Barat

5. Sebelah utara Bengkel Asia adalah

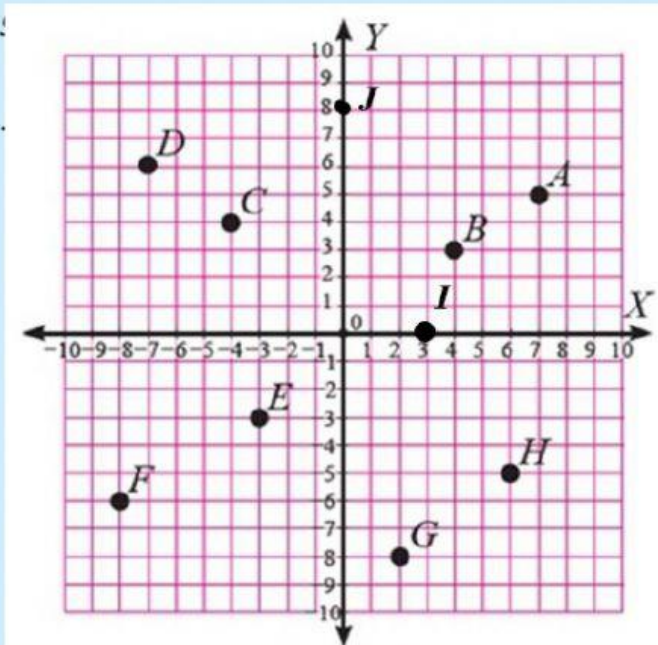
- a. Rumah Sakit Umum c. Pasar Raya
b. Toko Besi Yessi d. Kantor Polisi

6. Rumah Kepala Sekolah berada di sebelah barat

- a. Kantor polisi c. Pasar Raya
b. Foto Kopi d. Jalan anggrek

7. Bila kita dari Rumah Sakit Umum akan ke SD Sumber Makmur, maka kita berjalan ke arah
- | | | |
|------------|----------|----------------------|
| a. Barat | c. timur | <input type="text"/> |
| b. Selatan | d. utara | |

Gambar bidang koordinat digunakan untuk mengerjakan soal nomer 8 – 14 !



8. Koordinat (6, -5) adalah titik

a. A	c. G	<input type="text"/>
b. H	d. D	

9. Koordinat titik C adalah

a. (4, -4)	c. (-4, 4)	<input type="text"/>
b. (4, 3)	d. (-8, 6)	

10. Koordinat (-3, -3) dan (-8, -6) adalah titik dan

a. A, B	c. B, H	<input type="text"/>
b. C, A	c. E, F	

11. Bila titik C, B, dan E dihubungkan, maka akan membentuk bangun

a. Belah ketupat	c. segitiga	<input type="text"/>
b. Persegi	d. trapesium	

12. Koordinat (-7, 6) adalah titik

a. C	c. D	<input type="text"/>
b. E	d. F	

13. Koordinat titik J adalah

a. (0, 8)	c. (8, 8)	<input type="text"/>
b. (8, 0)	d. (8, 7)	

14. Koordinat titik I adalah

a. (3, 0)	c. (0, 3)	<input type="text"/>
b. (3, 1)	d. (1, 3)	

15. Diketahui koordinat titik A (-5, 1), B (-2, -2), C (4, -2), dan D (1, 1). Keempat koordinat tersebut membentuk suatu bangun datar. Bangun datar yang terbentuk adalah

a. Persegi	c. belah ketupat	<input type="text"/>
b. Persegi Panjang	d. jajargenjang	