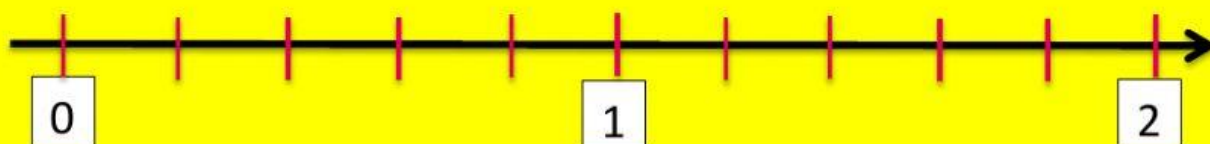




Ticket de salida

Lee con atención, piensa y luego responde:

1.- ¿Qué fracción está representada en la recta numérica por el personaje de minecraft?



A) $\frac{1}{7}$

B) $\frac{2}{5}$


C) $\frac{7}{5}$

2.- Ubica las siguientes fracciones en la recta numérica (arrastrándolas):

A) $\frac{15}{6}$


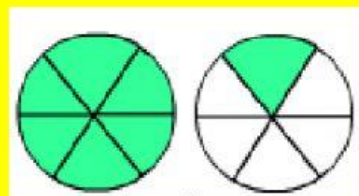

B) $\frac{4}{6}$

C) $\frac{8}{6}$





3.- Une con una línea la representación gráfica del número mixto con su ubicación en la recta numérica.

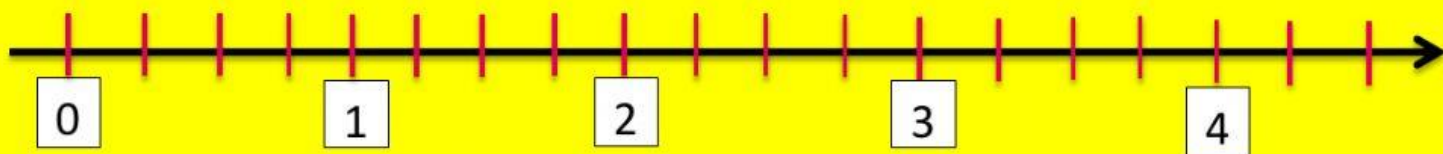


4.- Une con una línea los siguientes números mixtos con su ubicación en la recta numérica:

A) $3\frac{2}{4}$

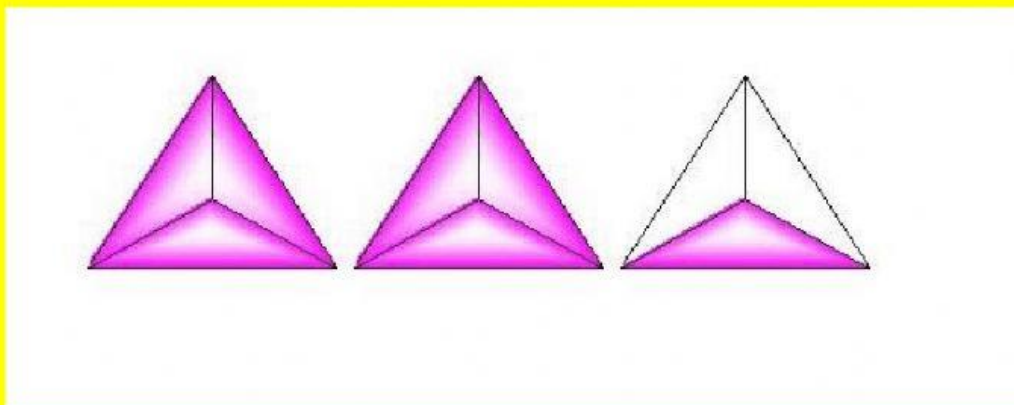
B) $2\frac{3}{4}$

C) $2\frac{1}{4}$





5.- Selecciona el número mixto representado gráficamente:



A) $2\frac{2}{9}$

B) $3\frac{2}{3}$

C) $2\frac{1}{3}$

Ubícalo en la recta numérica haciendo click en la figura correspondiente.

