

PERSIAPAN UK


UNSUR – UNSUR LINGKARAN

Nama :

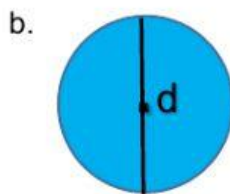
Kelas :

Kerjakan Soal-Soal Berikut ini!

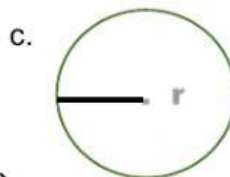
1. Pindahkan (Cocokkan) unsur lingkaran ke kotak kuning sesuai dengan gambar !



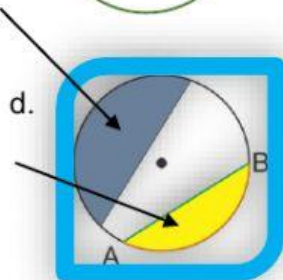
Jari-jari



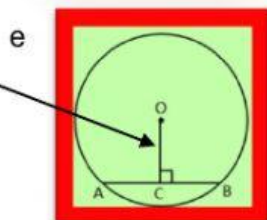
Apotema



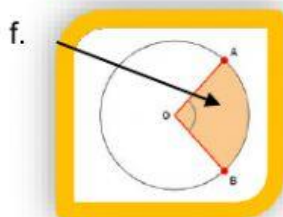
Juring



Titik Pusat



Diameter

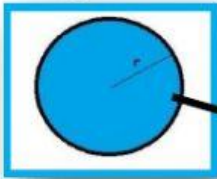


Tembereng

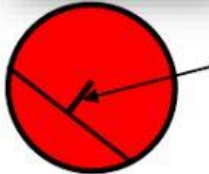
Kerjakan Soal-Soal Berikut ini!

2. Hubungkan dengan garis pada jawaban yang benar :


a.



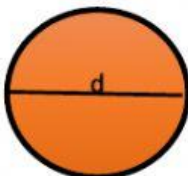
b.



c.



d.

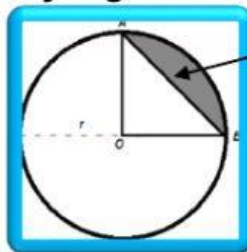


3. Pilihlah nama unsur lingkaran yang sesuai gambar bangun dibawah ini :

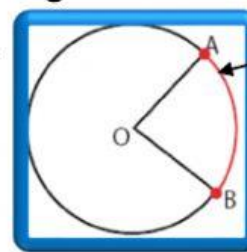
a.




b.



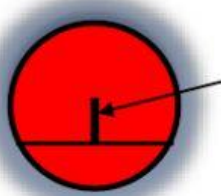
c.




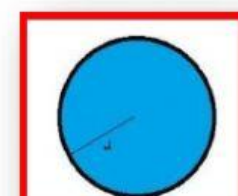
d.



e.



f.



4. Pilihlah jawaban yang benar dari pertanyaan di bawah ini dengan cara di klik!

1) Garis yang menghubungkan antara titik pusat lingkaran dengan titik pada lingkaran disebut ...

- a. Diameter
- b. Juring
- c. Jari-jari

2) Garis yang menghubungkan 2 titik pada lingkaran dan melalui titik pusat disebut ...

- a. Diameter
- b. Juring
- c. Jari-jari

3) Garis lengkung yang merupakan bagian dari keliling lingkaran disebut ...

- a. Busur
- b. Juring
- c. Tali busur

4) Daerah di dalam lingkaran yang dibatasi oleh dua jari-jari dan satu busur disebut ...

- a. Apotema
- b. Juring
- c. Tembereng

5) Garis yang terpendek dan tegak lurus terhadap tali busur dari titik pusat lingkaran disebut ...

- a. Apotema
- b. Juring
- c. Tembereng