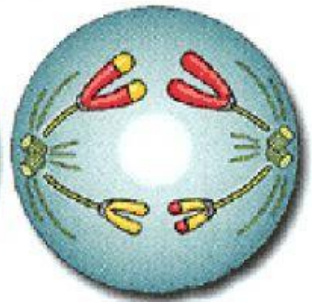
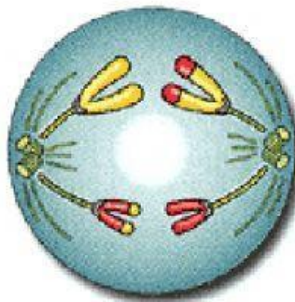
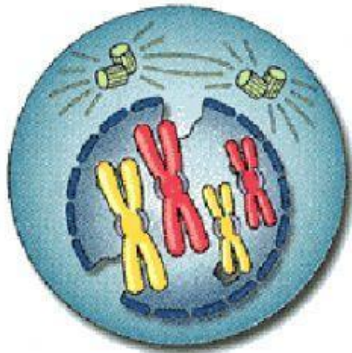
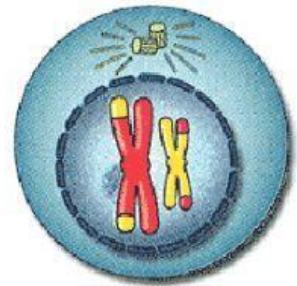
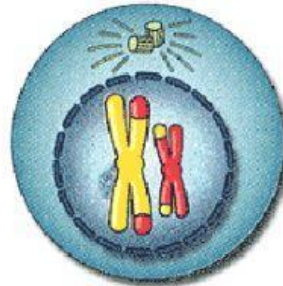
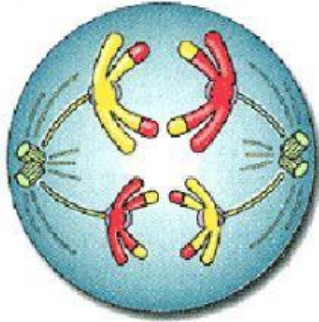




Asignatura: Biología
Profesora: María Cecilia Jaramillo

MEIOSIS I y II

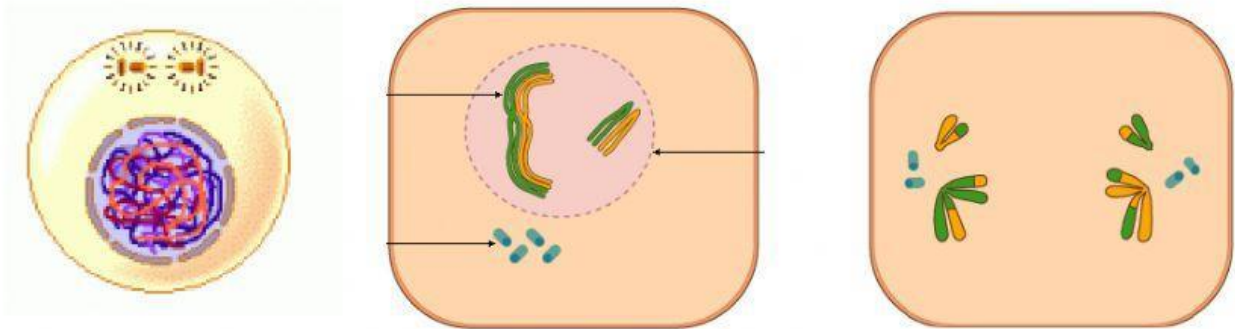
Observa las siguientes imágenes y reconoce a qué etapa de la meiosis corresponde.



¿Qué eventos permiten variabilidad genética en la meiosis?

¿Cuántas células se generan en la meiosis?

¿Cuál de las siguientes imágenes muestra el crossing over o entrecruzamiento cromosómico?



¿Cuál es la finalidad de la meiosis?