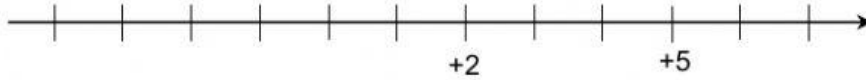


דף עבודה: ציר המספרים

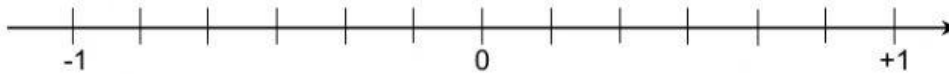
1) חברו בין המספרים המופיעים בטבלה לבין השנתות המתאימים.

א.



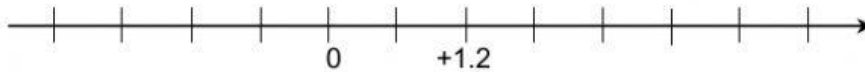
-2	0	+4
----	---	----

ב.



$+\frac{1}{3}$	$-\frac{2}{3}$	$+\frac{5}{6}$	$+\frac{1}{6}$	$-\frac{1}{6}$
----------------	----------------	----------------	----------------	----------------

ג.



-1.8	-0.6	+2.4
------	------	------

2) א. חברו בין המספרים המופיעים בטבלה לבין השנתות המתאימים.



-3.6	-2.4	+0.8	-0.8	-1.8	-3.2	+1.6	+0.4
------	------	------	------	------	------	------	------

ב. היעזרו בסעיף א' והוסיפו < או > בתוך הריבועים כדי שתקבל טענה נכונה. הסבירו את תשובתכם.

$-2.4 \square -1.8$ (3) $+0.4 \square -0.8$ (2) $-3.2 \square -0.8$ (1)