






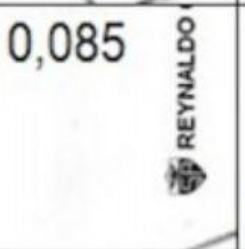


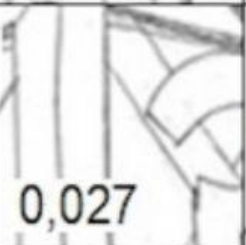




DIVISIÓN POR LA UNIDAD SEGUIDA DE CEROS

REYNALDO CARTOLIN R.

Resuelve las siguientes divisiones por la unidad seguida de ceros, las respuestas las encontrarás en las piezas cuadradas, corta y ubica en el lugar adecuado, pega y colorea.

A:1 6:1000	A:4	B:4	C:4	D:4	C:1 124,3 100
A:2 462:100					C:2 2,9:10
A:3 85:1000	A:3	B:3	C:3	D:3	C:3 3,672:10
A:4 39:100					C:4 29,16:100
B:1 3250:1000	A:2	B:2	C:2	D:2	D:1 4,6:100
B:2 27:1000					D:2 24,7:100
B:3 4316:1000	A:1	B:1	C:1	D:1	D:3 26:100
B:4 864:100					D:4 245:1000
 0,29	0,39	 0,046	0,247	8,64	 4,62
 0,1243	 0,3672	 0,2916	 3,25	 0,085	 0,006
	 0,26	 0,027	 4,316	 0,245	