


CIRCUITO ECONÓMICO DE LA SAL

c) SI TENGO 8 PAQUETES DE 250 GRAMOS DE SAL, ¿CUÁNTOS KG SON?
ARRASTRAR Y CALCULAR





RESPUESTA: SON KILOS

d) PARA UNA POLLO A LA SAL NECESITO 250 GRAMOS, ¿PARA TRES
POLLOS CUANTA SAL NECESITO?

ARRASTRAR Y CALCULAR:



	<p data-bbox="826 616 981 660">1 POLLO</p> 
	<p data-bbox="826 1153 981 1198">1 POLLO</p> 

	 <p>1 POLLO</p>
--	--

RESPUESTA: PARA 3 POLLOS A LA SAL NECESITO

GRAMOS