


Repartir los ingredientes en partes iguales

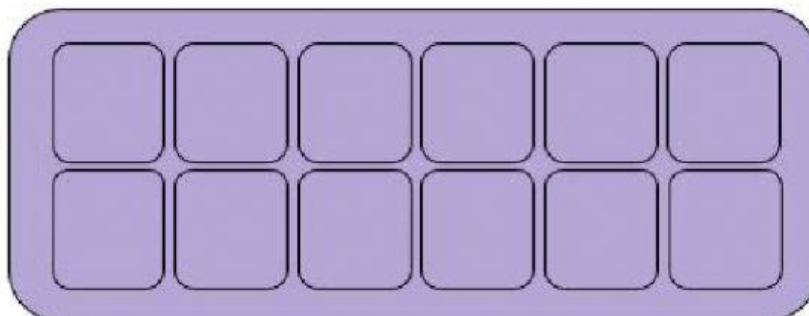
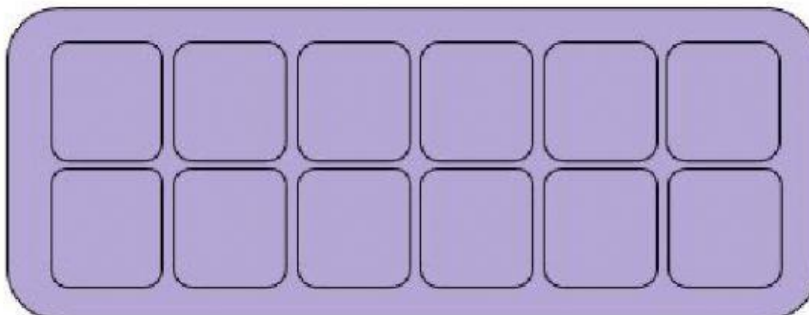


Los chicos quieren preparar algunas recetas y tienen que repartirse los ingredientes en partes iguales. ¿Cuántos elementos le tocará a cada uno?

María y Juan necesitan repartirse estos huevos en partes iguales
¿Cuántos huevos le corresponde a cada uno?




Arrastrá los huevos a los maples, para que en todos haya la misma cantidad.



Respuesta: Le corresponden _____ huevos a cada nene.

Renata, Rodrigo y Federico necesitan repartirse en partes iguales, las frutillas para armar su postre. ¿Cuántas frutillas le corresponden a cada?



Arrastrá las frutillas a los frascos, para que en todos haya la misma cantidad.




Respuesta: Cada niño guardó en su frasco _____ frutillas.



Romina hizo unas galletas muy divertidas, quiere guardarlas en frascos para que se conserven mejor. ¿Cuántas galletas deberá colocar en cada frasco, para que todos tengan la misma cantidad?



Arrastrá las galletitas a los frascos, para que quede, en todos, la misma cantidad.



Respuesta: Guardó en cada frasco _____ galletas.