






FIGURAS GEOMÉTRICAS

1. Escreva o nome das figuras geométricas abaixo:



2. Ligue as figuras geométricas em seus devidos lugares, de acordo com a descrição dada a seguir:



**FIGURA COM 4
VÉRTICES E 4 LADOS,
SENDO TODOS
EXATAMENTE
IGUAIS.**

**FIGURA COM 3
VÉRTICES E 3 LADOS,
QUE PODEM OU
NÃO SER IGUAIS.**

**FIGURA BEM
DIFERENTE DAS
DEMAIS, POIS NÃO
TEM LADOS E NÃO
TEM VÉRTICES.**

**FIGURA COM 4
VÉRTICES E 4 LADOS,
SENDO APENAS 2
PARES DE LADOS
IGUAIS.**