

TAJUK 1 : PERIMETER DAN LUAS

Standard Kandungan : 1.1 Menentukan perimeter pelbagai bentuk

Standard Pembelajaran : Pada akhir PdPc ini, murid berupaya :

1.1.1 Menentukan perimeter bagi bentuk dua dimensi.

1.1.2 Menentukan perimeter gabungan bentuk dua dimensi.

Sila tekan link di bawah untuk merujuk nota :

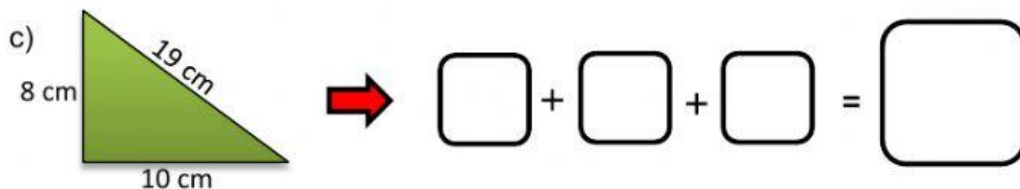
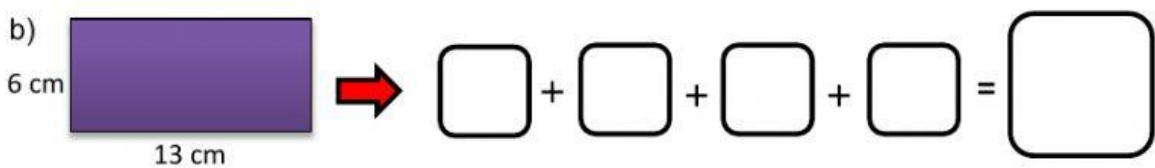
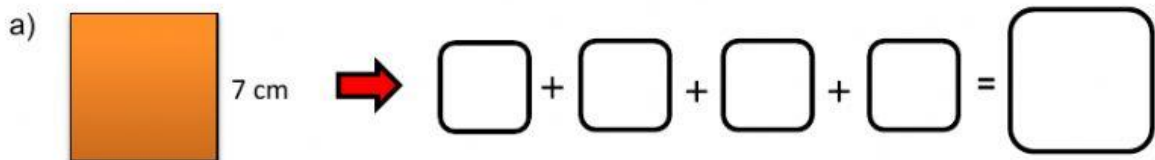
<https://drive.google.com/file/d/1HTrenqgl5FWEuLJuVDi5jFGmcmCHn4bv/view?usp=sharing>

Nama :

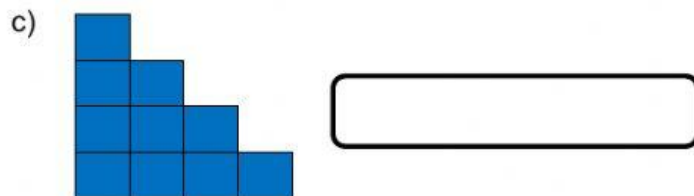
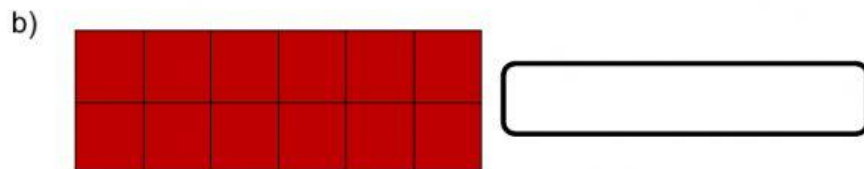
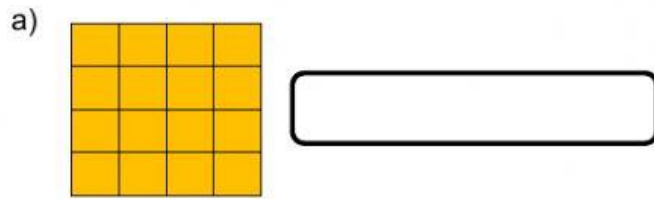
Kelas:

LATIHAN : PERIMETER


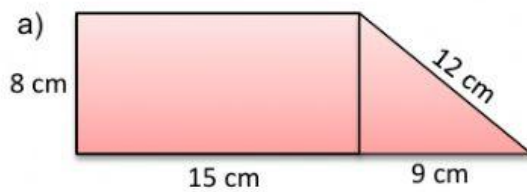
1. Cari perimeter bagi bentuk di bawah.

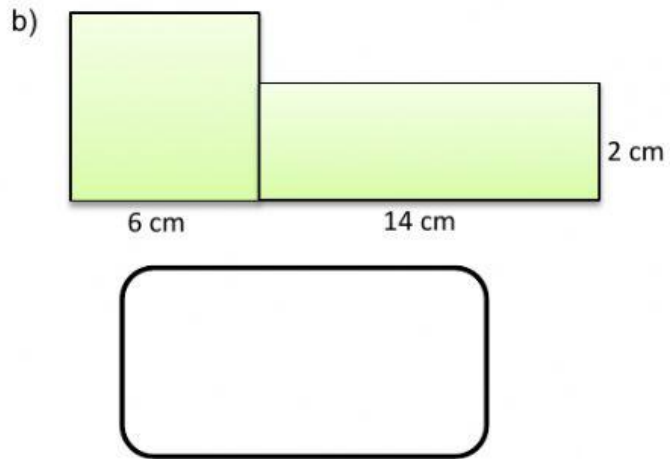


2. Kira perimeter di bawah dan pilih jawapan yang betul.



3. Gambar rajah di bawah menunjukkan gabungan bentuk dua dimensi. Cari perimeter bagi setiap gabungan.





4. Antara yang berikut, manakah merupakan bentuk 2 dimensi?

