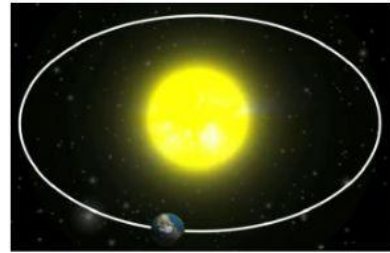



Los movimientos de la Tierra y sus consecuencias

1.- ¿Qué movimiento de la Tierra representa cada imagen?



2.- Une cada imagen con la estación del año que le corresponde.

Las aves migran a zonas más cálidas.



INVIERNO

Los árboles florecen.



VERANO

Las temperaturas son más bajas. Las familias pasan más tiempo en casa.



OTOÑO

Los días son más largos.





PRIMAVERA

3.- Selecciona una “V” si el enunciado es verdadero y una “F”, si es falso.

- a)** El movimiento de rotación demora menos que el movimiento de traslación.
- b)** En todos los países sería de día si la Tierra dejara de girar sobre su propio eje.
- c)** El movimiento de rotación origina el día y la noche.
- d)** Algunos animales como los osos y las ardillas hibernan en invierno.
- e)** El movimiento de traslación tarda 24 horas, aproximadamente.

4.- Escribe la palabra que falta.

El  es una

La  Tierra es un