

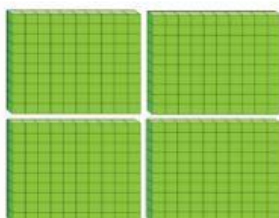
**Coloca los dígitos de cada número donde corresponde.
Escribe el número en palabras**

Número	Centena	Decenas	Unidades	En palabras
255				
786				
543				
179				
425				
367				
934				
638				
852				



Une cada bloque con la cantidad que representa




646



134



224



448