

1- Encontre no diagrama o nome dos 5 sentidos:

P	A	L	A	D	A	R	Ã	O
R	G	O	L	F	A	T	O	U
H	W	O	F	Y	T	H	R	I
F	V	I	S	Ã	O	H	G	Z
N	C	A	U	D	I	Ç	Ã	O
L	K	N	V	T	A	T	O	X

2- Ligue a parte do corpo que as crianças usam para:



VER O SOL



LAVAR O ROSTO E
SENTIR A ÁGUA



SENTIR O CHEIRO DO
PERFUME



SENTIR O SABOR DOS
ALIMENTOS



OUVIR A MAMÃE
CONTANDO HISTÓRIA

NARIZ



ORELHA



OLHO



MÃO







LÍNGUA



3- Leia as frases e escolha opção que a complete:

- a) Com as _____, Paulo escutou um barulhão que vinha da casa ao lado.
 - b) Com o _____, Liana sentiu o cheirinho gostoso que vinha da cozinha.
 - c) Com a _____ de seu corpo, Bruno sentiu o calor do Sol.
 - d) Com os _____, Ana viu seus colegas entrarem na sala.
-

4- Complete as frases com os sentidos correspondentes:


- a) Os  são os órgãos da _____.
 - b) As  são os órgãos da _____.
 - c) O  é o órgão do _____.
 - d) A  é o órgão do _____.
-

5- Arraste os órgãos dos sentidos aos lugares corretos:

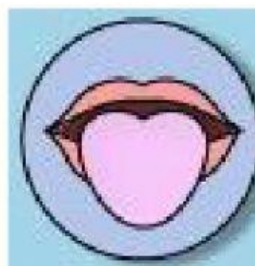
VISÃO



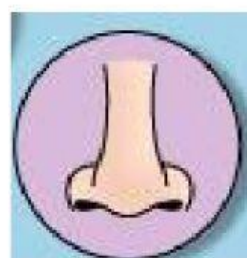
AUDIÇÃO



PALADAR



OLFATO



TATO

