

1. UNE EL RELOJ JUNTO CON EL TIEMPO CORRESPONDIENTE.





10:30

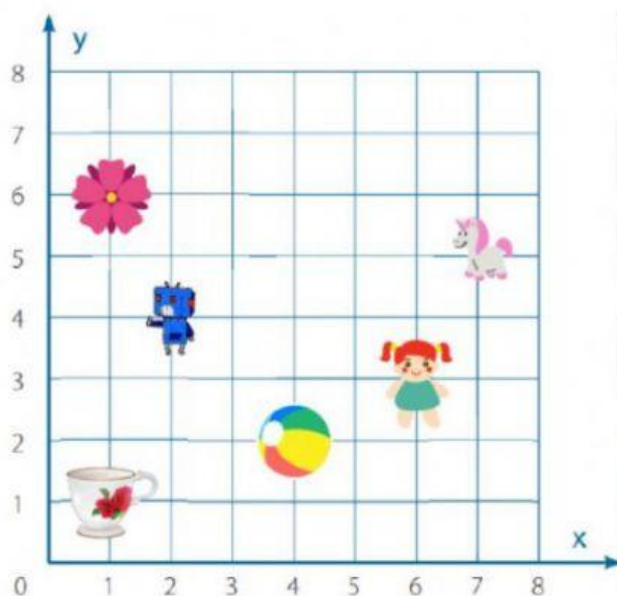
7:30

11:00


2. ELIGE LAS OPCIONES QUE REPRESENTAN REFLEXIÓN



3. SELECCIONE LAS AFIRMACIONES CORRECTAS



- La  está ubicada en el punto (1; 6)

- El  está ubicada en el punto (5; 7)

- La  está ubicada en el punto (6; 3)

- El  está ubicada en el punto (2; 4)

- La  está ubicada en el punto (2; 2)

- La  está ubicada en el punto (4; 2)

4. COMPLETE LAS FIGU

