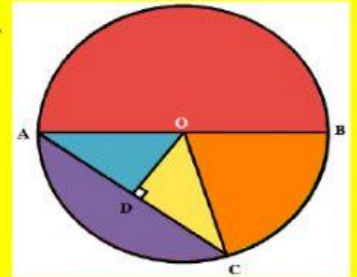


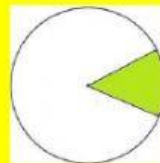
SOAL MATEMATIKA KELAS VI
BAB LINGKARAN

NAMA :

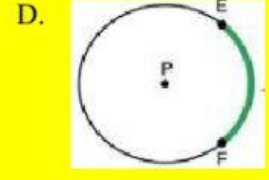
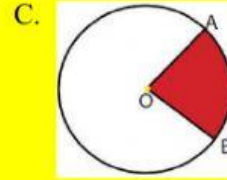
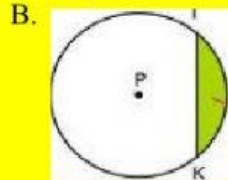
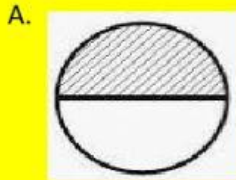
1. Berdasarkan gambar di bawah, yang tidak termasuk jari-jari adalah
 - A. OA
 - B. OC
 - C. OD
 - D. OB
2. Berdasarkan gambar di atas, garis AB dinamakan
 - A. Apotema
 - B. Tali busur
 - C. Busur
 - D. Diameter
3. Berdasarkan gambar di atas, garis lurus AC dinamakan ...
 - A. Apotema
 - B. Tali busur
 - C. Diameter
 - D. Jari-jari



4. Bagian yang berwarna hijau merupakan
 - A. busur lingkaran
 - B. juring lingkaran
 - C. tembereng
 - D. tali busur

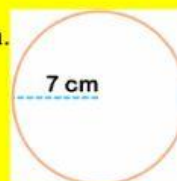


5. Gambar berikut ini yang menunjukkan tembereng adalah



6. Keliling lingkaran di samping adalah cm.

- A. 7
- B. 14
- C. 22
- D. 44



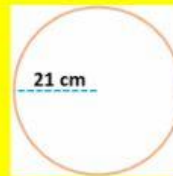
7. Keliling lingkaran di samping adalah cm.

- A. 22
- B. 44
- C. 88
- D. 172



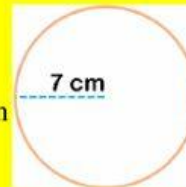
8. Keliling lingkaran berikut adalah cm.

- A. 44
- B. 88
- C. 132
- D. 176



9. Keliling lingkaran gambar berikut adalah cm

- A. 44
- B. 110
- C. 132
- D. 154



10. Keliling lingkaran berikut adalah cm.

- A. 110
- B. 220
- C. 330
- D. 440

