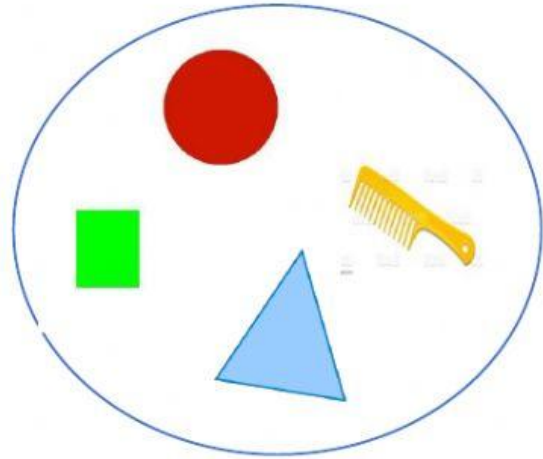


**GIMNASIO MODERNO GENERACIÓN DEL FUTURO**  
**EVALUACIÓN FINAL DE MATEMÁTICAS GRADO PRIMERO 1°**

**NOMBRE:** \_\_\_\_\_ **FECHA:** \_\_\_\_\_

1. Tacha el elemento que no pertenece.



2. Escribe mayor  $>$ , menor  $<$  o igual  $=$ , según corresponda.



589		792
1.250		2.250
1.750		1.750
987		789
7.320		5.260

3. Resuelve las siguientes operaciones matemáticas.

$$\begin{array}{r} + 1.749 \\ \underline{\phantom{0}358} \end{array}$$

$$\begin{array}{r} + 7.285 \\ \underline{\phantom{0}1.239} \end{array}$$

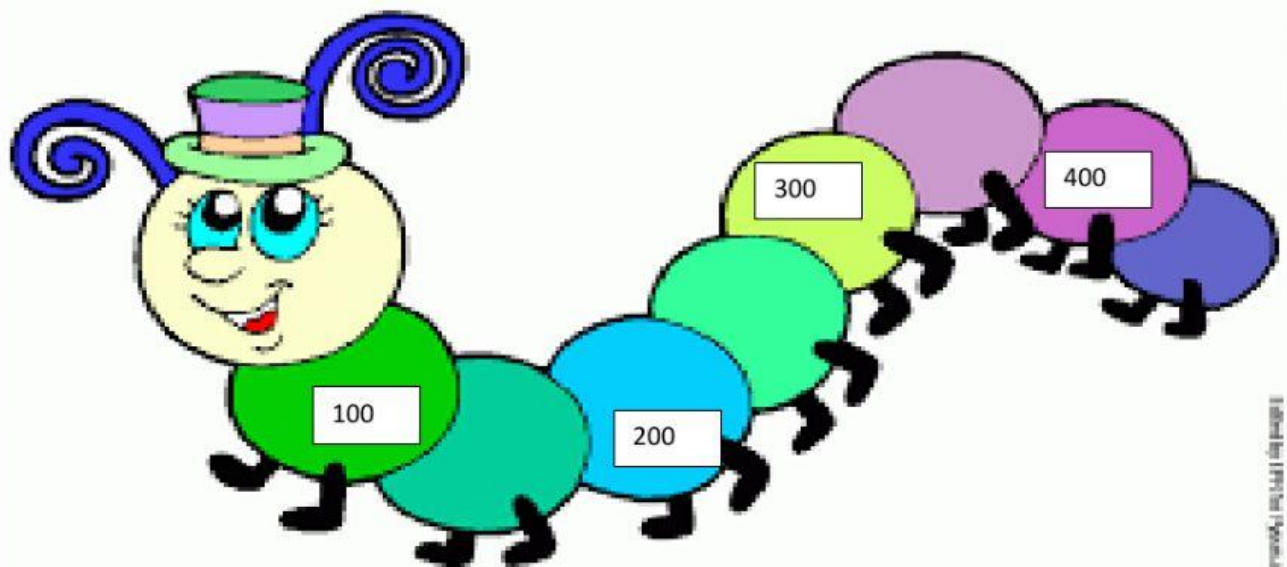
$$\begin{array}{r} + 5.219 \\ \underline{\phantom{0}3.525} \end{array}$$

$$\begin{array}{r} - 2.869 \\ \underline{\phantom{0}1.536} \end{array}$$

$$\begin{array}{r} - 2.997 \\ \underline{\phantom{0}987} \end{array}$$

$$\begin{array}{r} - 1.549 \\ \underline{\phantom{0}519} \end{array}$$

4. Completa la secuencia.



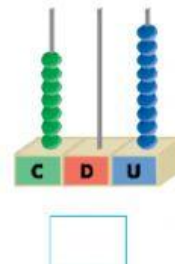
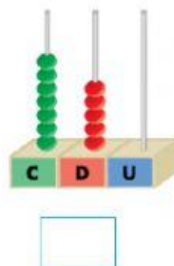
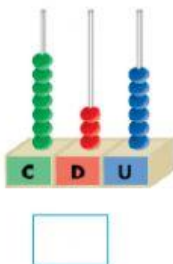
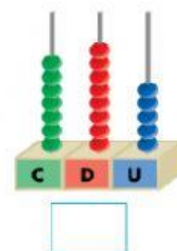
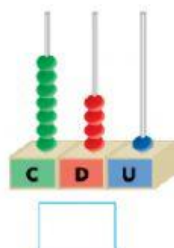
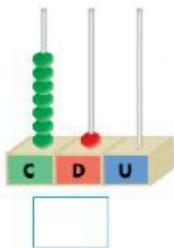
5. ¿Qué hora es?



Diez y diez

Ocho y diez y nueve

6. ¿Cuenta y escribe el número que corresponde?



7. Lee y escribe el numero

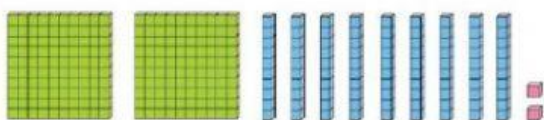
Mil cientos cuarenta.

Setecientos treinta y dos

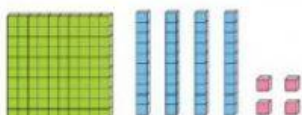
Diez mil

Dos mil trescientos ocho

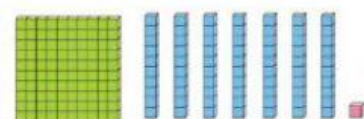
8. Observa y relaciona las representaciones con los números que le corresponden.



171



144



292

**GIMNASIO MODERNO GENERACIÓN DEL FUTURO**  
**EVALUACIÓN FINAL DE MATEMÁTICAS GRADO PRIMERO 1°**

NOMBRE: \_\_\_\_\_ FECHA: \_\_\_\_\_

9. descomponer los siguientes números

Numero	U M	C	D	U
1.238				
586				
705				
29				
7.890				

10. ¿Observa el grafico y responde?

Juguetes preferidos

