



# Colegio La Estrellita

*Nuestro Compromiso es Educar con Calidad Humana*  
Preescolar y Básica Primaria  
Resolución Oficial No.004110 de 2000

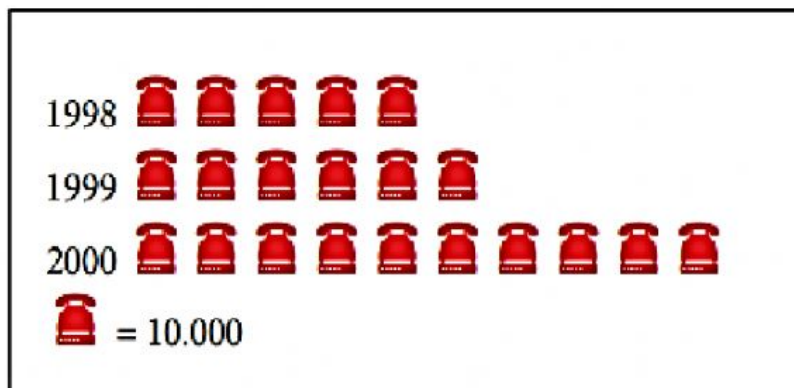
## VALORACIÓN ACADÉMICA IV PERIODO


Asignatura: Estadística.

Profesora: Laura Jimena Trujillo Nieva.

Grado: Tercero

1. Observa el siguiente pictograma que muestra el total de llamadas realizadas durante tres años y contesta la pregunta:



 = 10.000




Cada teléfono  
representa 10.000  
llamadas.



Del Pictograma anterior, contesta las preguntas:

- ¿Cuántas llamadas se realizaron en el año 2000?
- ¿Cuál es la diferencia entre las llamadas que se realizaron en el año 1999 que en el año 1998?

2. Observo los dibujos del pictograma completa la tabla y responde las preguntas.

COLOR	CANTIDAD	TOTAL
azul		
rojo		
amarillo		



Cada dibujo  
representa 2 carros.



# Colegio La Estrellita

*Nuestro Compromiso es Educar con Calidad Humana*

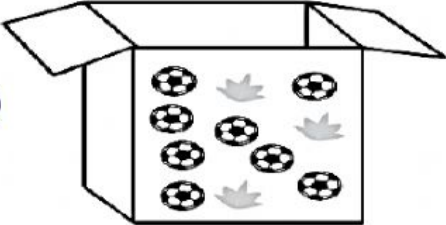
Preescolar y Básica Primaria



Resolución Oficial No.004110 de 2000


- a) ¿Cuál es el color que más se repite? \_\_\_\_\_
- b) ¿Cuántos carros de color azul hay? \_\_\_\_\_
- c) ¿Cuántos carros hay en total? \_\_\_\_\_
- d) Los datos en esta tabla se representan por medio de \_\_\_\_\_



## PROBABILIDAD

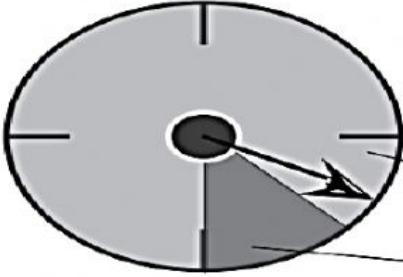
3. Observa, piensa y responde. Selecciona la respuesta que creas correcta.

1)  Si tú sacas al azar un objeto de esta caja, ¿qué objeto es el más probable que saques?

2)  Si se lanza una flecha a este blanco, ¿en qué área es más probable que caiga?

3)  Si la flecha está girando alrededor de la rueda, ¿a qué área es más probable que apunte?



# Colegio La Estrellita

*Nuestro Compromiso es Educar con Calidad Humana*  
Preescolar y Básica Primaria  
Resolución Oficial No.004110 de 2000

4. Tipos de mostacillas en una bolsa.

metal	vidrio	greda	madera	plástico
9	12	2	5	1



a) ¿Qué tipo de mostacilla es la menos probable de sacar de la caja? \_\_\_\_\_

b) ¿Qué tipo de mostacilla es la más probable de sacar de la caja? \_\_\_\_\_

5. Observa la tabla que muestra la cantidad de bolitas por color que hay en una bolsa y responde.



color	cantidad
Rojo	5
Azul	3
Lila	7
Verde	5

a) ¿Qué color de bolitas es la más probable de sacar de la bolsa? \_\_\_\_\_

b) ¿Qué color de bolitas es la menos probable de sacar de la bolsa? \_\_\_\_\_

c) ¿Qué color de bolitas es tan probable de sacar de la bolsa como la verde? \_\_\_\_\_