

**Nombre:**

**Fecha:**

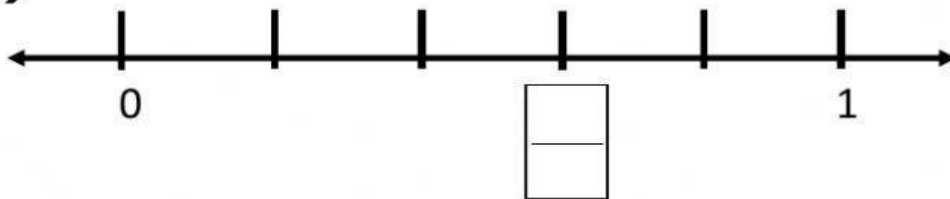
**Curso:**

**Paralelo:**

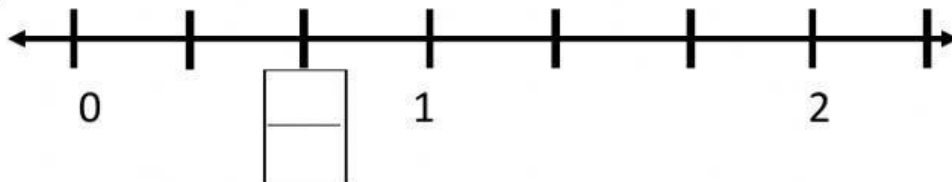
**Ubicación de fracciones en la recta numérica. VERSIÓN 3**

**Escriba la fracción representada en el recuadro ubicado en la recta numérica:**

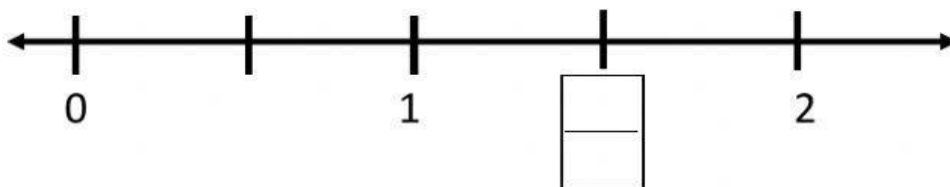
**a)**



**b)**



**c)**



**d)**

