



PON EN PRÁCTICA TUS  
CONOCIMIENTOS

**Fracción**



**NOMBRE Y APELLIDOS:**

**GRADO:**

**PARALELO:**

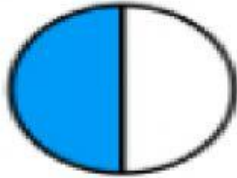

**FECHA:**

**ASIGNATURA: MATEMÁTICA.**



**Pregunta 1**

**Escribe la fracción representada.**





## Pregunta 2

**Elige la respuesta correcta:**

**Juan le quedó un cuarto del pastel después de repartirlo entre sus tres hermanos, la representación de esta cantidad de pastel de Juan es:**





**Pregunta 3**

**Completa:**

**Los términos de la fracción son:**

$$\frac{1}{6} \quad \begin{array}{l} \longrightarrow \\ \longrightarrow \end{array}$$





## Pregunta 4

**Une según corresponda:**

**Propia**

**Impropia**

**Mixta**

**Unidad**

$$\frac{9}{9}$$

$$\frac{4}{5}$$

$$7\frac{4}{5}$$

$$\frac{7}{2}$$



### Pregunta 5

**Sitúa o arrastra la fracción equivalente a las de color verde:**

$$\frac{24}{30}$$

$$\frac{2}{3}$$

$$\frac{7}{15}$$

$$\frac{7}{42}$$

$$\frac{1}{6}$$

$$\frac{2}{15}$$

$$\frac{7}{42}$$

$$\frac{4}{5}$$

$$\frac{10}{15}$$

$$\frac{1}{5}$$



## Pregunta 5


**A. Ubica la fracciones en la semirrecta numérica arrastrándola al lugar que corresponde:**

$$\frac{2}{3}$$

$$\frac{1}{3}$$

$$\frac{2}{5}$$

$$\frac{2}{4}$$







## Pregunta 5

**B. Ubica la fracciones en la semirrecta numérica arrastrándola al lugar que corresponde:**

$$\frac{1}{6}$$

$$\frac{5}{6}$$

$$\frac{1}{1}$$

$$\frac{2}{3}$$

