

ESCUELA DE EDUCACIÓN BÁSICA "EDUARDO KINGMAN"

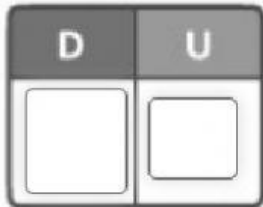
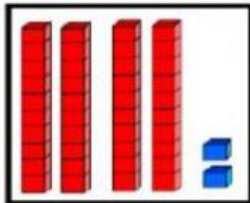
eduardokingman13@hotmail.com
Sibambe # 510 y Ambato
LECCIÓN DE MATEMÁTICAS



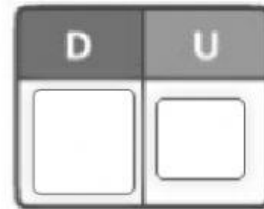

Nombre: _____

2do Año Básico

1 Observa cuenta y completa con la respuesta correcta



_____ Decenas _____ unidades



_____ Decenas _____ unidades







2.- Selecciona y completa la tabla

	25	20+5	2D+5U

3.- En la siguiente tabla selecciones las decenas

10	7	30	9	20
0	90	4	50	
6	60	100	40	8

4.- Une con línea la base 10 con el numero que corresponde

10	
13	 
15	
17	 

5- Dictado de números

<input type="text"/>	<input type="text"/>	<input type="text"/>	<input type="text"/>	<input type="text"/>
----------------------	----------------------	----------------------	----------------------	----------------------