

















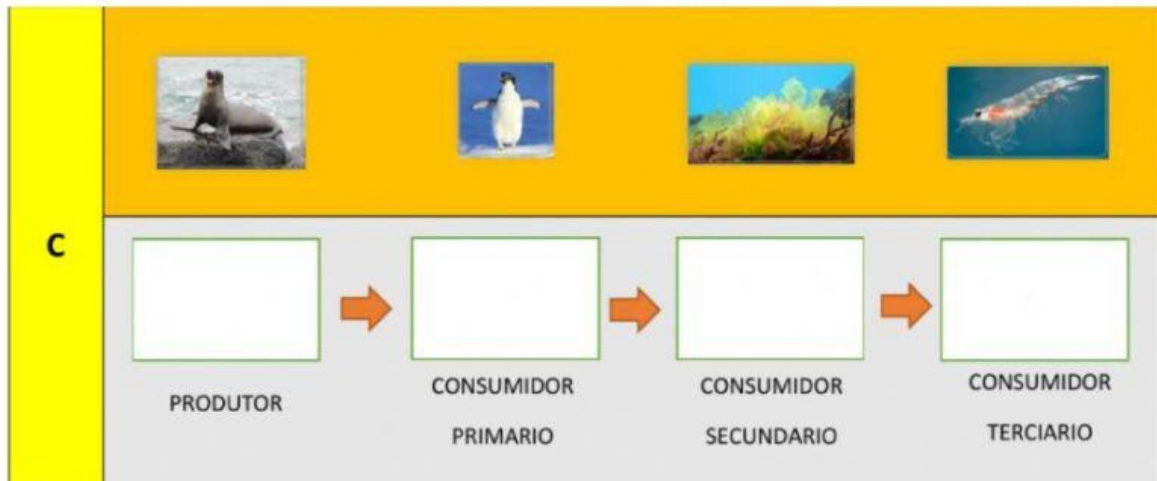
Repaso de la Unidad: El medio ambiente/Cadena alimentaria

I. Lee las oraciones y escoge la mejor respuesta.

1. Son los seres vivos capaces de producir su propio alimento _____.
2. Son los animales que se alimentan de los consumidores secundarios _____.
3. Son los animales que se alimentan de las plantas (herbívoros) _____.
4. Son los animales que se alimentan de los herbívoros. _____.

II. Arrastra el ser vivo a donde corresponda en la cadena alimentaria.

A				
				
	PRODUTOR	CONSUMIDOR PRIMARIO	CONSUMIDOR SECUNDARIO	CONSUMIDOR TERCARIO
B				
				
	PRODUTOR	CONSUMIDOR PRIMARIO	CONSUMIDOR SECUNDARIO	CONSUMIDOR TERCARIO



III. Identifica los organismos en productores, consumidores o depredadores.



1. _____



2. _____



3. _____



4. _____



5. _____



6. _____



7. _____



8. _____