

Nombre:

Fecha:

Curso:

Paralelo:

Cuadriláteros




Completa cada enunciado para que sea verdadero.


1. En todo cuadrilátero, la suma de sus ángulos interiores es _____.
2. Los paralelogramos se clasifican en _____.
3. Los pares de ángulos consecutivos de un paralelogramo son _____.

Cada par de segmentos corresponde a las diagonales de un cuadrilátero. Clasifica cada uno de las figuras propuestas

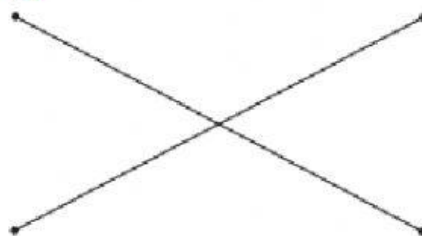
4.



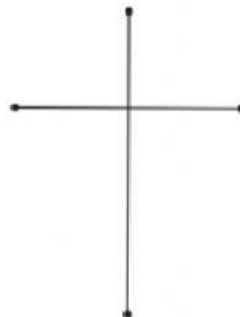
5.



6.

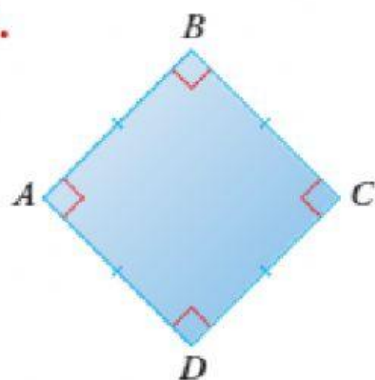


7.

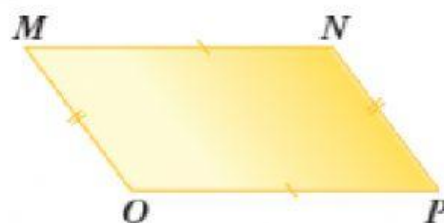


Clasifica los siguientes paralelogramos.


8.



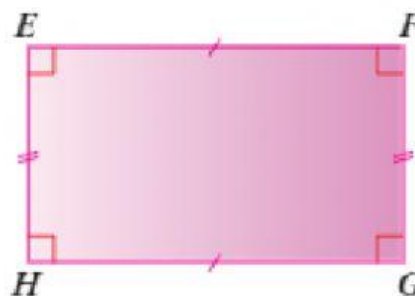
10.



9.



11.



Determina el valor de x en cada figura.

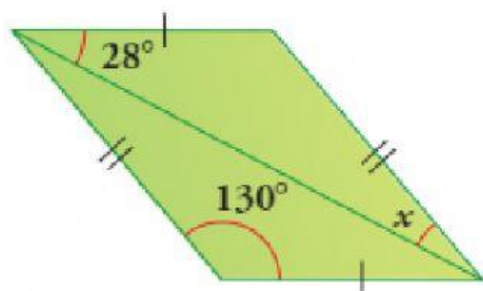
17.



19.



18.



20.

