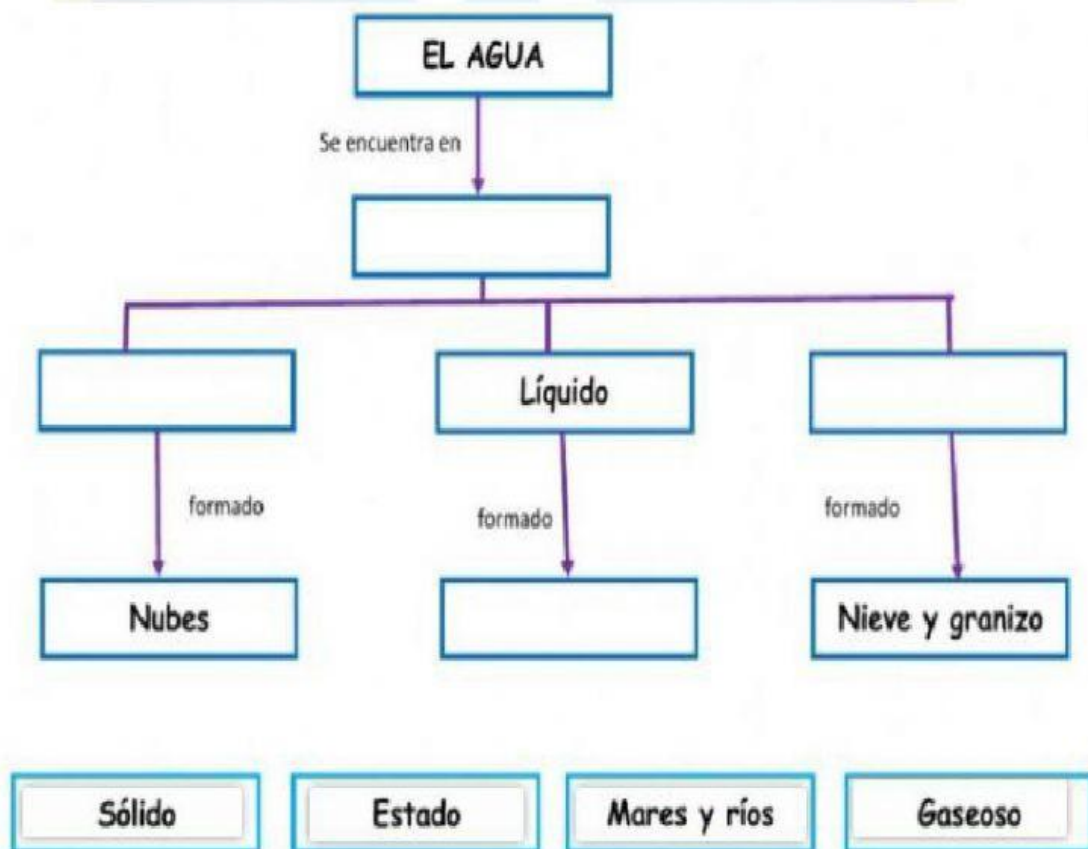


## REFORZANDO CONTENIDOS

1. Marca con una X a las afirmaciones correctas sobre el agua.

- ☐ El agua es un líquido que no tiene sabor, ni olor.
- ☐ El agua de los mares es dulce.
- ☐ La tierra está compuesta mayormente de agua.
- ☐ Los seres vivos necesitamos agua salada para vivir.

2. Completa el mapa conceptual del agua, arrastrando los carteles donde correspondan.




3. Une según corresponda.



El agua tiene peso, un litro de agua pesa un kilo



Se congela a  $0^{\circ}\text{C}$  y hierve a  $100^{\circ}\text{C}$ , a  $0^{\circ}\text{C}$  se convierte en hielo y aumenta su volumen a  $100^{\circ}\text{C}$  hierve y se convierte en vapor de agua.




El Agua es incolora, inodora e insípida.



Carece de forma propia, adquiere la forma del recipiente que lo contiene.



Conserva siempre la posición horizontal.



Es un gran disolvente.



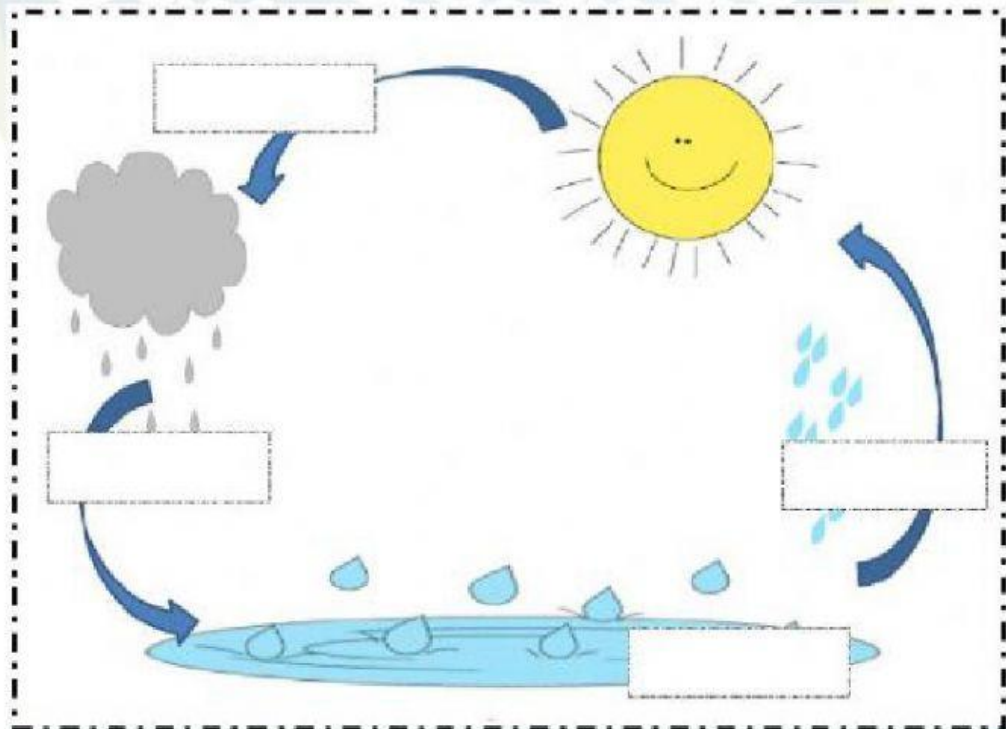
Ejerce presión en todas las direcciones.



4. Selecciona únicamente las imágenes en las que identifiques el uso del agua.



5. Completa el ciclo del agua seleccionando la respuesta correcta.





6. Elige la opción correcta.

- El agua líquida cuando se congela se convierte en ...

- a. Vapor      b. Hielo      c. Agua Líquida

- Cuando el agua se evapora se transforma en ...

- a. Hielo      b. Vapor      c. Agua Líquida

- Si calentamos el hielo se convierte en ....

- a. Vapor      b. Agua Líquida      c. Hielo

7. Encuentra las siguientes palabras en la sopa de letras.

Agua	Hielo	Vapor	Condensación	
Solidificación	Evaporación	Fusión	Nieve	Lluvia

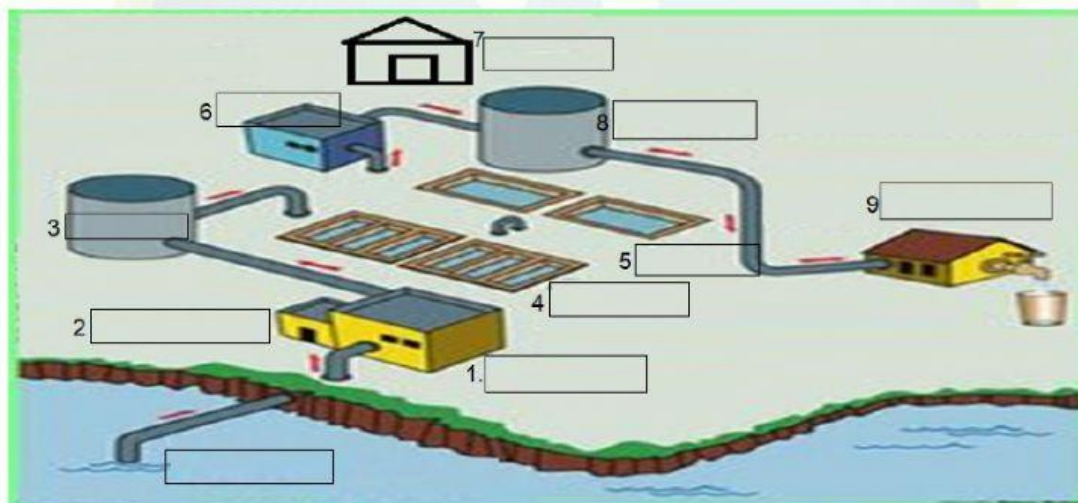
K	J	F	F	X	Y	P	I	W	R	W	N	O	W
O	I	A	U	J	F	W	N	N	J	V	S	K	B
A	W	Q	P	X	G	O	R	Y	I	T	A	X	E
S	O	L	I	D	I	F	I	C	A	C	I	O	N
D	W	D	L	L	U	V	I	A	V	J	N	W	J
W	R	F	Y	X	L	R	K	G	B	U	A	I	E
N	L	W	H	I	E	L	O	D	E	I	J	B	C
G	E	V	A	P	O	R	A	C	I	O	N	Z	G
Z	B	F	U	S	I	O	N	E	F	O	R	X	J
K	Q	J	P	K	Q	N	R	V	A	P	O	R	Y
N	I	E	V	E	G	P	U	K	M	O	U	N	F
U	Q	P	C	Q	F	B	W	X	M	W	N	T	R
X	L	T	A	G	U	A	L	I	Q	U	I	D	A
Q	C	O	N	D	E	N	S	A	C	I	O	N	B



8. Arrastra las palabras a su lugar para completar el esquema.



9. Completa las etapas de potabilización del agua, seleccionando la respuesta correcta.



10. Coloca **V** si es verdadero y **F** si es falso

Un árbol es materia. (   )  
 Los sentimientos es materia (   )  
 La materia tiene masa y volumen (   )  
 Para medir la masa se utiliza el litro. (   )

