



TEACHER	Lic. Fany, BELEN Z.	GRADE	2 <sup>nd</sup> GRADE			LESSON <b>04</b>
SUBJECT	SOCIAL STUDIES	CLASSROOM	A1			
LEVEL	PRIMARY	DATE		11	20	

## **TOPIC: EL DESCUBRIMIENTO DE AMÉRICA**

### **01. Marca la respuesta correcta:**

- a) El sabio que dedujo matemáticamente que la tierra era redonda fue:

RODRIGO DE  
TRIANA

ERATÓSTENES

AMÉRICO  
VESPUCIO

- b) La carabela donde viajaba Cristóbal Colón fue:

LA NIÑA





LA PINTA

LA SANTA  
MARÍA

### **02. Escribe los nombres de las siguientes embarcaciones de Colón.**



04. Coloca (V) o (F) según corresponda:

-  Cristóbal Colón partió con 80 hombres. (    )
-  Duraron 15 días para poder encontrar tierra. (    )
-  Cuando llegaron a tierras americanas la (    )  
encontraron deshabitadas.
-  El marino que gritó ¡tierra! Fue Rodrigo de Triana. (    )

**05. Completa los enunciados según corresponda:**

- a) Después de su primer viaje Colón regreso a América para intercambiar productos y animales. De América llevó:

..... , ..... y .....

- b) De Europa llevó a América animales que no existían allí

como: ..... y .....

- c) El país de América que lleva su nombre en homenaje a su

gran hazaña es: .....

- d) En qué año partió Cristóbal Colón con los tres barcos.

.....

## 06. Relaciona según corresponda:

DESCUBRIDOR DE  
AMÉRICA.



NAVEGANTE ITALIANO  
QUE SE DIO CUENTA  
QUE LO DESCUBIERTO  
POR COLÓN ERA UN  
CONTINENTE.



MARINERO RODRIGO  
DE TRIANA QUIEN  
GRITÓ ¡TIERRA A LA  
VISTA!



¡Concéntrate, tú  
puedes!

