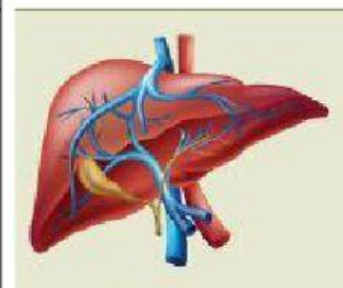
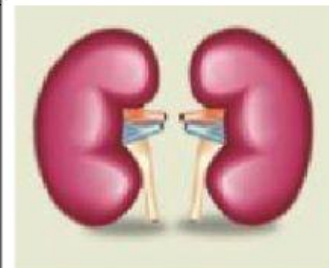
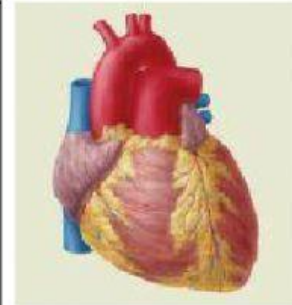


ORGAN DAN SISTEM ORGAN

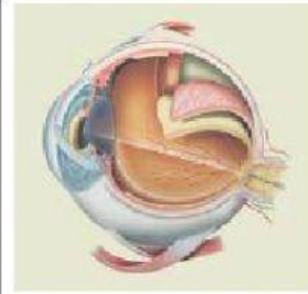
Silakan kerjakan Latihan-latihan soal berikut secara mandiri

1. Tarik Gambar yang benar pada kolom sesuai keterangannya

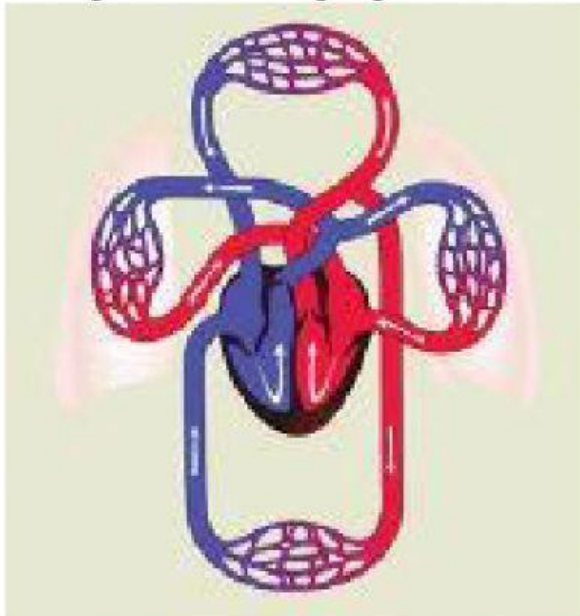
No.	Struktur dan fungsi organ	Gambar
1.	Berfungsi sebagai tempat menawarkan racun yang terbentuk dalam tubuh. Organ ini antara lain terbentuk dari jaringan otot, jaringan pengikat, dan jaringan saraf.	
2.	Memiliki fungsi untuk memompa darah supaya beredar ke seluruh tubuh. Organ ini antara lain terbentuk dari jaringan otot jantung, jaringan pengikat, dan jaringan saraf.	
3.	Organ ekskresi dalam vertebrata yang berbentuk mirip kacang. Sebagai bagian dari sistem urin, ginjal berfungsi menyaring kotoran (terutama urea) dari darah dan membuangnya bersama dengan air dalam bentuk urin.	



No.	Struktur dan fungsi organ	Gambar
4.	Organ ini berfungsi untuk menghirup udara pernapasan, menyaring udara, dan menghangatkan udara pernapasan.	
5.	Organ ini berfungsi untuk melihat. Organ ini antara lain terbentuk dari jaringan otot dan jaringan saraf.	



2. Tarik garis sesuai dengan gambar dan keterangannya



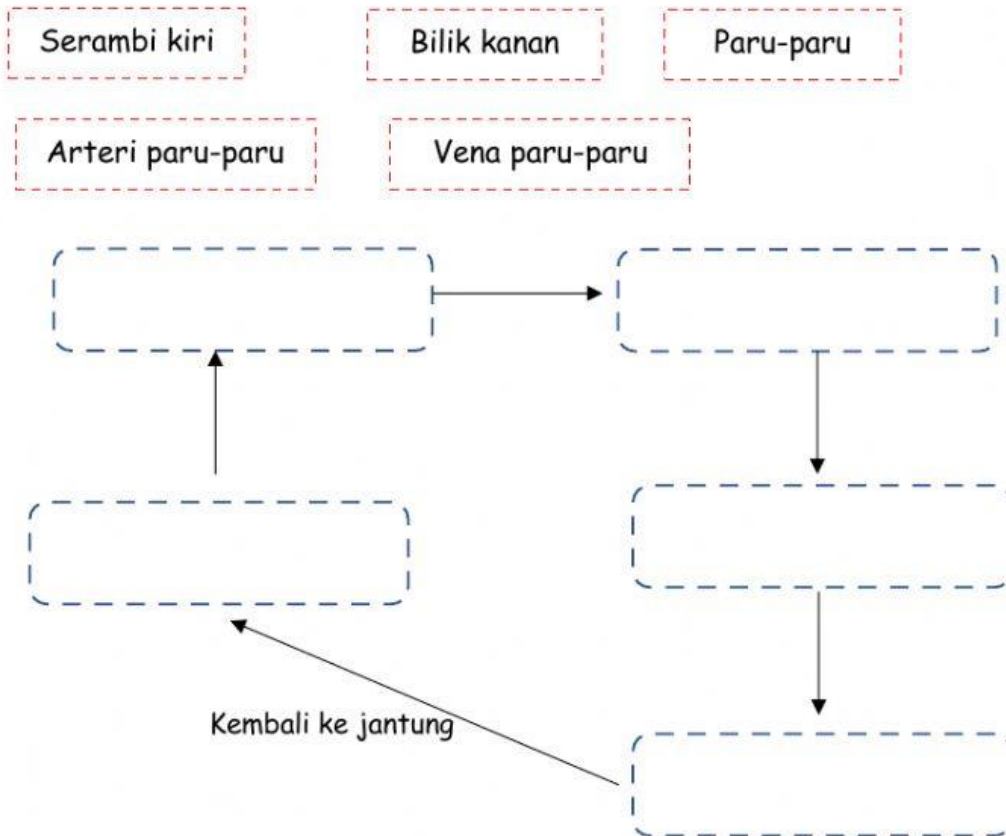
Jantung

Pembuluh darah Vena

Pembuluh darah kapiler

Pembuluh darah arteri (nadi)

3. Urutkan kotak-kotak di bawah ini menjadi bagan peredaran darah kecil



4. Urutkan kotak-kotak di bawah ini menjadi bagan peredaran darah besar

