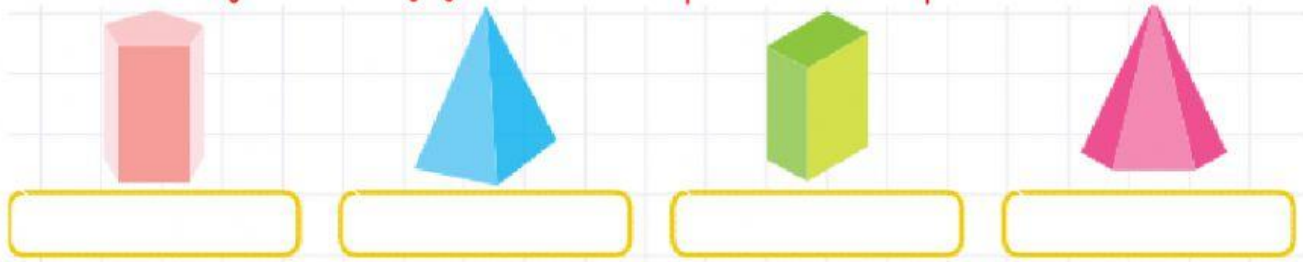




Escribir bajo cada figura si es "prisma" o "pirámide"

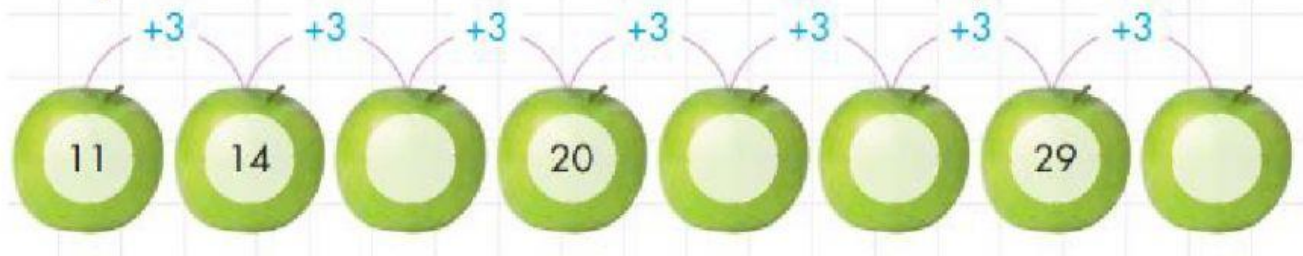


Analizar el pictograma y completar la tabla, sabiendo que:


 = 10 botellas



Completar la secuencia tomando en cuenta el patrón numérico.




Leer las preguntas y contestar analizando la ilustración.



¿Qué número tiene la farmacia? _____
 ¿El número del restaurante es par o impar? _____

Observar los personajes de la fila y contestar las preguntas



- ¿En qué puesto está la persona que tiene audífonos? _____
- ¿En qué puesto está la persona que tiene sombrero, pero no audífonos? _____
- ¿En qué puesto está la persona que viste terno y corbata? _____

Realizar las adiciones de los siguientes ábacos, completar la tabla posicional. Luego resuelva la sustracción y determine la diferencia bajo la representación gráfica.

+

C	D	U

+

--	--	--

$347 - 134$

Respuesta: _____

Unir con líneas según corresponda.



Ruedan o se deslizan

Solo ruedan

Ruedan o se deslizan