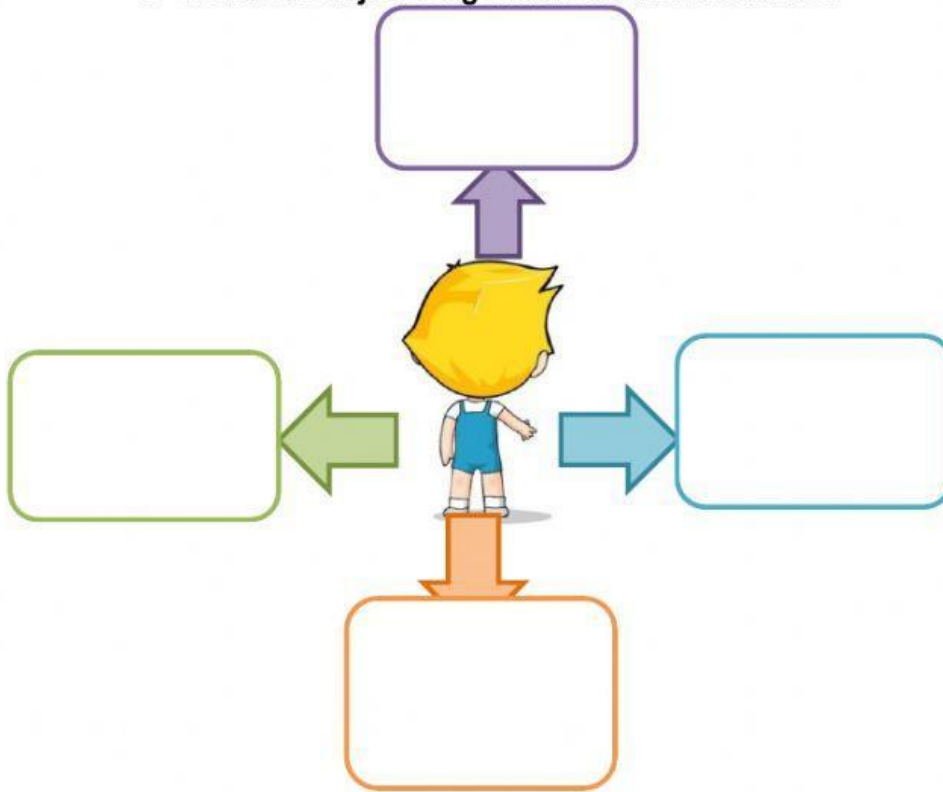




**LICEO ARQUIDIOCESANO DE NUESTRA SEÑORA**  
**EXÁMEN FINAL – SOCIALES**  
**IV PERÍODO**

**1. Ubica los objetos siguiendo las instrucciones:**



Ubica el conejo al NORTE



Ubica el amanecer al ORIENTE




Ubica el carro al OCCIDENTE



Ubica las palmeras al SUR



**2. Completa las siguientes oraciones de acuerdo a la imagen:**



- a. El sol sale por él \_\_\_\_\_ y se esconde por el \_\_\_\_\_.
- b. Las casas están hacia el \_\_\_\_\_.
- c. El lago esta hacia el \_\_\_\_\_.
- d. Los arboles están hacia el \_\_\_\_\_.



**LICEO ARQUIDIOCESANO DE NUESTRA SEÑORA**  
**EXÁMEN FINAL – SOCIALES**  
**IV PERÍODO**

**3. Une con una línea las tres columnas con características de mapa y plano:**



Mapa

Son representaciones o dibujos exactos de un lugar visto desde arriba.



Plano

Son representaciones o dibujos donde ubicamos todos los elementos de un paisaje.

**4. Observa las imágenes y selecciona si es campo o ciudad:**



Campo

Ciudad



Campo

Ciudad



Campo

Ciudad



Campo

Ciudad



Campo

Ciudad



Campo

Ciudad



Campo

Ciudad



Campo

Ciudad








Campo

Ciudad



**LICEO ARQUIDIOCESANO DE NUESTRA SEÑORA**  
**EXÁMEN FINAL – SOCIALES**  
**IV PERÍODO**

5. Observa los siguientes recursos y escribe una X si es renovable o no renovable.

Recurso Natural	Recurso Renovable	Recurso No Renovable
 Agua		
 Petróleo		
 Animales		
 Oro		
 Sol		
 Carbón		