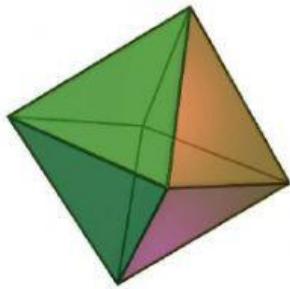


Actividad cubos, poliedros, y cuerpos redondos

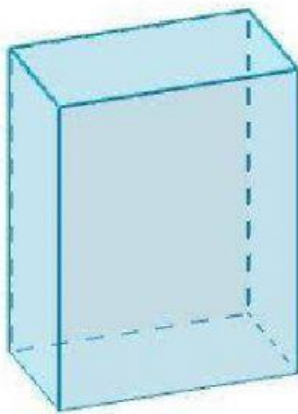
Geometría 6°

NOMBRE:

1. Traza la figura con su nombre



CONO



PRISMA RECTANGULAR

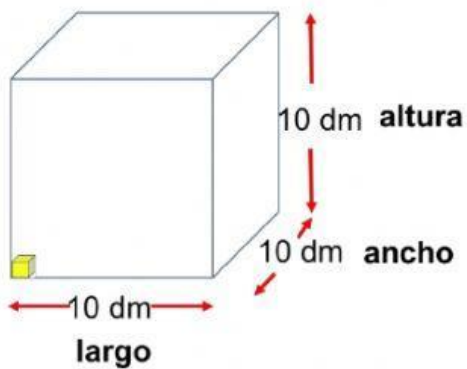


ORTAEDRO

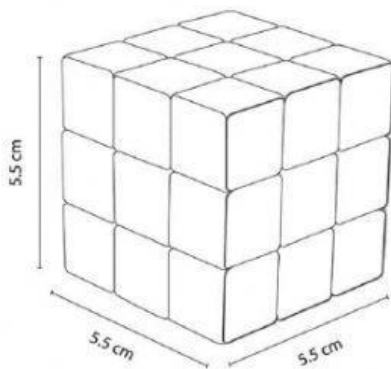
Actividad cubos, poliedros, y cuerpos redondos

Geometría 6º

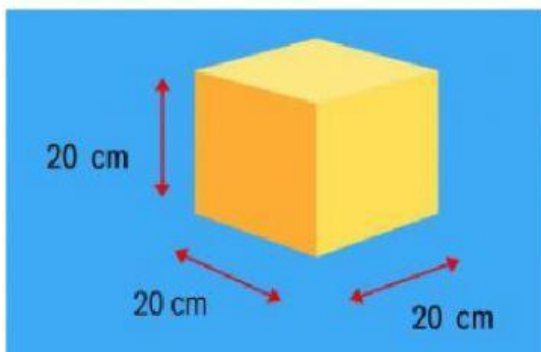
2. Obtenga el resultado del volumen o área según dice



Área =



Volumen =



Volumen =

Área =

Actividad cubos, poliedros, y cuerpos redondos

Geometría 6º

3. Clasifica los poliedros

Pirámides

Prisma Rectangular

Pirámide Triangular

Prismas

Ortoedro

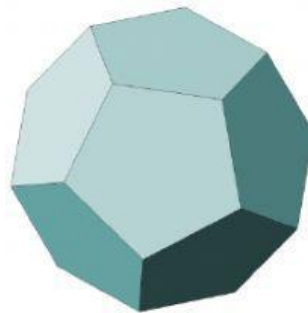
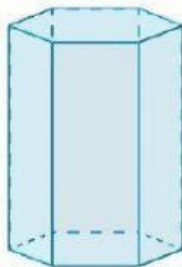
Pirámide Pentagonal

Cubos

Prisma Hexagonal

Dodecaedro

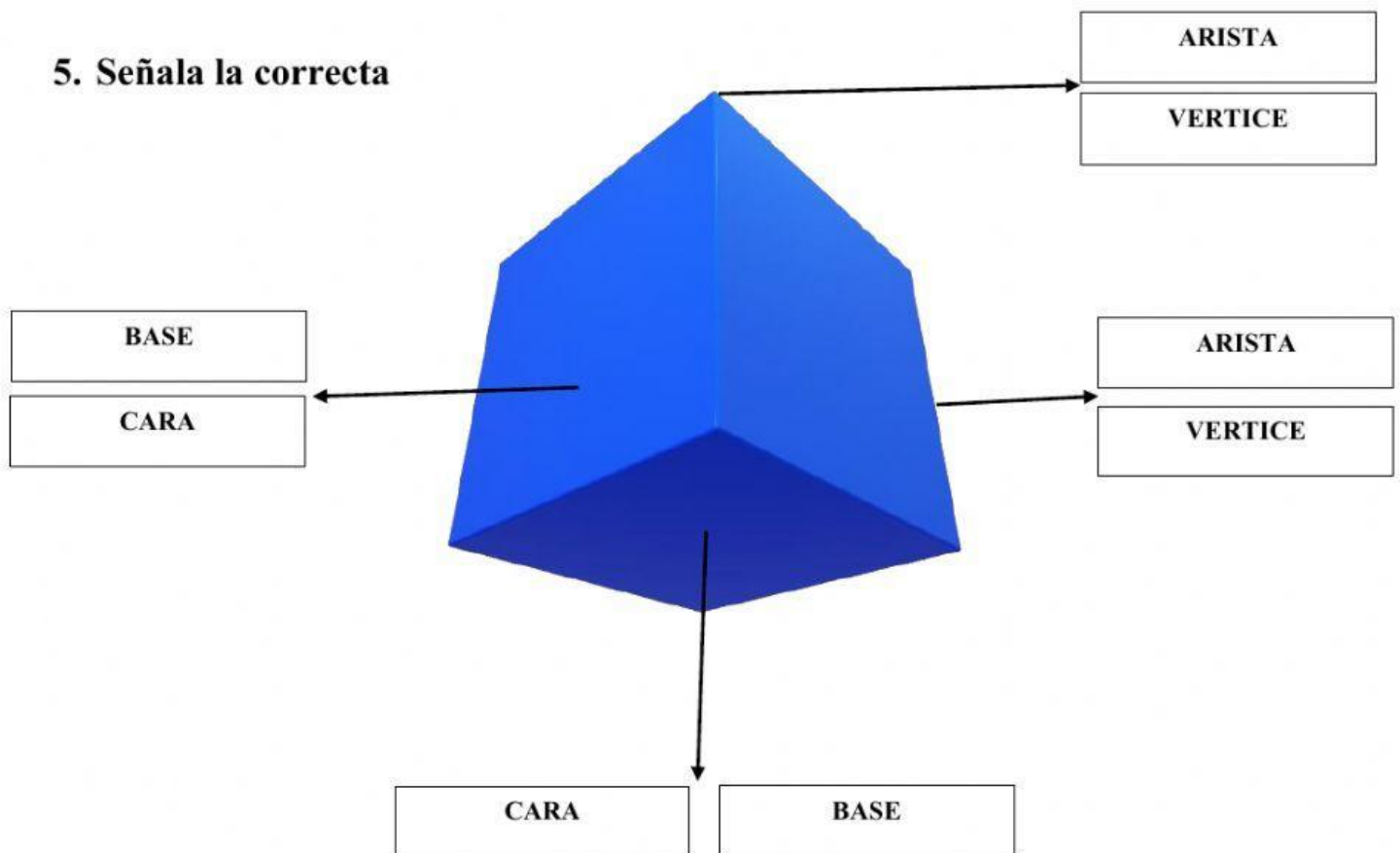
4. Clasifique las figuras en poliedros y cuerpos redondos



Actividad cubos, poliedros, y cuerpos redondos

Geometría 6°

5. Señala la correcta



SI NECESITAN AYUDA ENTREN OPRIMAN AQUÍ.



POR: Andrés Pinzon