

## REPARTICIÓN CON IGUALDAD: LA

### **MITAD** ¡Encuentra la mitad, tú puedes!

1. Realiza la actividad que te indican.

A.

  
Allison  
¡Yo tengo 6 guitarras!  
OK




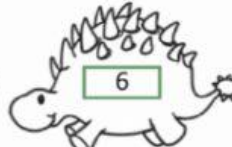











  
Kiara  
¡Yo deseo que me prestes la mitad!



😊 Colorea de azul las guitarras de Kiara.

😊 Kiara recibió \_\_\_\_\_ guitarras.

2. Pinta la mitad de cada número de la izquierda.

|   |   |   |  |   |
|---|---|---|--|---|
|  |  |  |  |  |
|  |  |  |   |  |
|  |  |  |  |  |

### 3. Resuelve:

La mitad de:

24

100

48

204

30

### 4. Resuelve las siguientes situaciones:

a) Un mono tiene 8 . Si se come la mitad

, ¿cuántos le quedan?

Le quedan \_\_\_\_\_



b) Lila hizo una tortilla con 3  y Lalo comió  doble de

¿Cuántos   Utilizó Lalo?

Lalo utilizó \_\_\_\_\_

