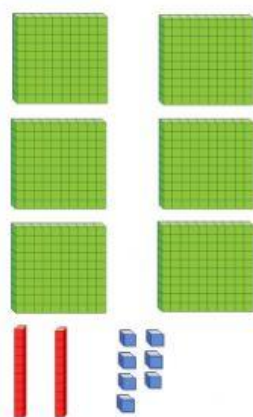
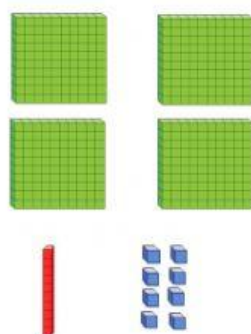
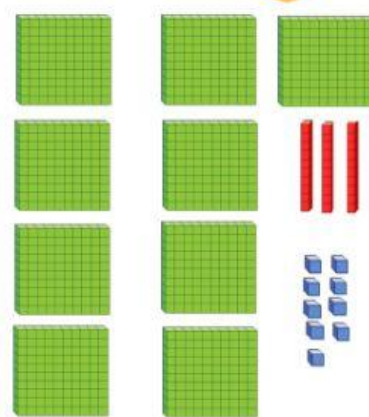


1 Escribe el número correcto en cada caso.







2 Une.

1C 8D 2U

$500+10+6$

4C 3D 3U

$400+30+3$

2C 4D 7U

$200+40+7$

5C 1D 6U

$100+80+2$

3 Observa
el ejemplo con
atención y
completa.

$736 = 700 + 30 + 6 = 7c + 3d + 6u$

$639 = \square + \square + 9 = \square + \square + \square$

$519 = \square + \square + \square = 5c + \square + \square$

$657 = \square + \square + \square = \square + \square + \square$

4 Escribe con letra los siguientes números.

474 → _____

396 → _____

503 → _____

889 → _____

981 → _____