



PEMERINTAH KABUPATEN LUWU TIMUR
DINAS PENDIDIKAN
SDN 264 WAWONDULA

Jl. Gunung Agung No. 01 Wawondula, Kec. Towuti

PENILAIAN AKHIR SEMESTER (PAS)

Tahun Pelajaran : 2020/2021

Kelas / Semester : 1 / 1	Nama :
Tema : 1 (Diriku)	No. Absen :
Waktu : 90 Menit	Tanggal : 02 Desember 2020

Jawablah pertanyaan di bawah ini dengan tepat!

1.

A.3,2/5



Yang dilakukan Siti sebelum berangkat ke sekolah adalah memberi _____

2.

A.3,2/1



Sebelum makan kita harus selalu... .

A. bermain

B. berdoa

C.. tidur

3.

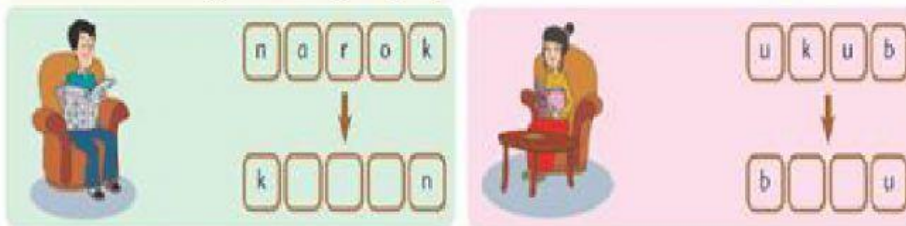
A.3,3/5



yang sedang dilakukan ayah pada gambar di samping adalah membaca _____

4. Susunlah huruf menjadi kata yang tepat

B.3,3/5




5. berilah tanda (✓) untuk gambar posisi duduk yang tepat

B.3,1/6



6. Traiklah garis sesuai gambar.

B.3,4/6



7. berilah tanda (✓) untuk gambar posisi duduk yang tepat, memegang pensil yang

B.3,2/6

benar, dan meletakkan buku yang tepat



8.

B.3,11/7

Sahabat untuk Selamanya
 Dua tiga kapal berlayar di samudra
 Ayo sahabatku kita bergembira
 Bermain bernyanyi bersama
 Menikmati indahnya dunia
 Sahabat...untuk selamanya
 Bersama untuk selamanya
 Kau dan aku sahabat
 Untuk selamanya
 Selama-lamanya.... setia

Lagu di samping bercerita tentang seorang





















9. Pilihlah lambang bilangan yang sesuai dengan jumlah benda pada masing-masing gambar di bawah ini.

C.3,1/5









10. Pasangkan banyak benda, lambang bilangan, dan nama bilangan

C.3,2/8

11. Pilihlah kata lebih dari, kurang dari, dan sama dengan.

C.3,3/3

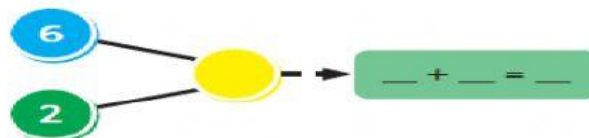
	_____	
	_____	
	_____	

12.

C.3,4/5



Edo menaruh 6 mangga dalam keranjang.
Di rumput masih ada 2 mangga.



Banyak mangga seluruhnya ada ___ buah

13.

F.3,2/3

Siapa Namamu?

Ciptaan A. T. Mahmud

Judul lagu di samping adalah _____

1	2	3	4	5	6	7	8	9	10
Sia	pa	ka	h	na	ma	mu			
5	4	3	2	1	3	3	1	1	1
Na	ma	ku	Si	ti	(sebutkan namamu)				

14.

F.3,3/1



Siti dan kawan-kawan sedang ...

A. menari B. menyanyi C. bermain

15.

F.3,1/4



Gambar di samping adalah melukis dengan _____

16.

F.3,4/6



Bahan utama yang digunakan untuk membuat gamar di samping adalah kulit _____

17.

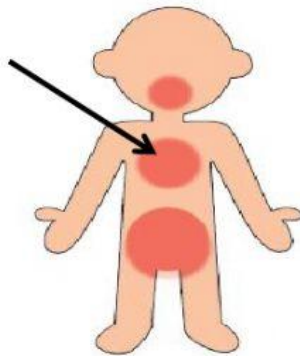
A'.3,1/8



Gerakan yang dilakukan lani dan teman-teman adalah gerakan _____ berpasangan

18.

A'.3,8/4



Bagian anggota tubuh yang tidak boleh disentuh (tanda panah) pada gambar di samping adalah _____

19.

A'.3,4/1



Amati gambar di bawah ini.yang sedang dilakukan Udin dan kawan-kawan adalah

A. berjalan B. berlari C. berbaris

20. Agar tidak terjatuh saat berjalan di atas balok titian, maka kita harus menjaga

A'.3,4/1

A. jarak B. keseimbangan C. teman

