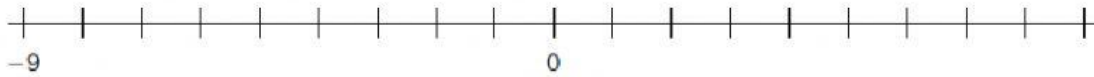


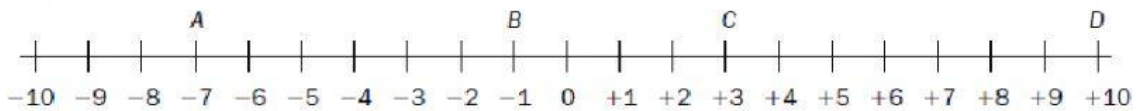
Recuerda

En la recta entera, los números enteros negativos se representan a la izquierda del 0 y los números enteros positivos, a la derecha del 0.

1. Completa la recta entera con los números que faltan.



2. Escribe los números que representa cada letra.



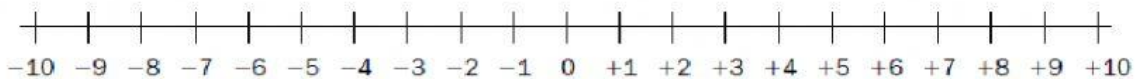
• A = _____

• C = _____

• B = _____

• D = _____

3. Representa en la recta entera los siguientes números.



4. En cada caso, escribe el número anterior y posterior.

