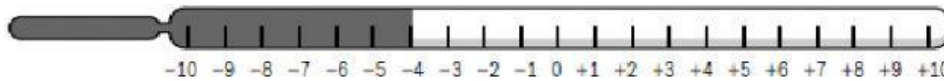
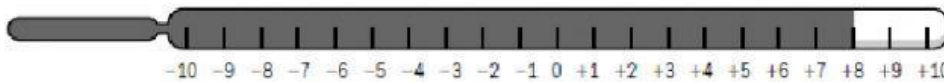


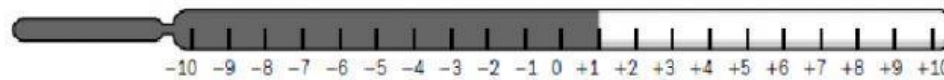
Recuerda

Los números enteros pueden ser positivos, negativos o el cero.
Son: ..., -5, -4, -3, -2, -1, 0, +1, +2, +3, +4, +5...

1. Observa los termómetros y escribe la temperatura que marcan.







■ Ahora, rodea el termómetro cuya temperatura esté por debajo de 0 grados.

2. Observa el esquema del ascensor de un edificio de oficinas y escribe a qué planta llegas en cada caso.

- +5
- +4
- +3
- +2
- +1
- 0
- 1
- 2
- 3

- Estás en la planta +1 y subes 2 plantas. ➤
- Estás en la planta +4 y bajas 6 pisos. ➤
- Estás en la planta -2 y bajas una planta. ➤
- Estás en la planta 0 y subes 4 plantas. ➤
- Estás en la planta +2 y bajas 2 plantas. ➤

3. Lee y escribe los números que se indican.

Tres números mayores que -2.

Tres números mayores que -1.

Tres números comprendidos entre -3 y +3.