



**INSTITUCIÓN EDUCATIVA PARTICULAR BILINGÜE OXFORD**  
“Educamos con emoción y creatividad”

**1º PRUEBA ESCRITA DEL III TRIMESTRE**  
**CIENCIA Y TECNOLOGÍA**

Nombre del Estudiante:	2 ºPrimaria – HAPPINESS
Profesor(a):	Fecha: 06/11/2020

<b>COMPETENCIA:</b> Explica el mundo físico basándose en conocimientos sobre los seres vivos, materia y energía, biodiversidad, Tierra y universo	<b>NIVEL DE LOGRO</b>
El estudiante es capaz de comprender conocimientos científicos relacionados a hechos o fenómenos naturales, sus causas y relaciones con otros fenómenos, construyendo representaciones del mundo natural y artificial. Esta representación del mundo, le permite evaluar situaciones donde la aplicación de la ciencia y la tecnología se encuentran en debate, para construir argumentos que le llevan a participar, deliberar y tomar decisiones en asuntos personales y públicos, mejorando su calidad de vida, así como conservar el ambiente.	

Lee atentamente cada una de las preguntas antes de responder. 😊

1. Últimamente no me he sentido bien, no tengo ganas de jugar, no tengo ganas estudiar, no tengo ganas de reír, no sé qué me sucede. Quiero sentirme como antes, lleno de alegría, correr y saltar por todas partes y por supuesto tengo ganas de ser tan buen alumno como siempre lo he sido ¿Qué crees que le suceda a esta persona?

- a) Menciona 3 posibles enfermedades las cuales pueda tener Marco

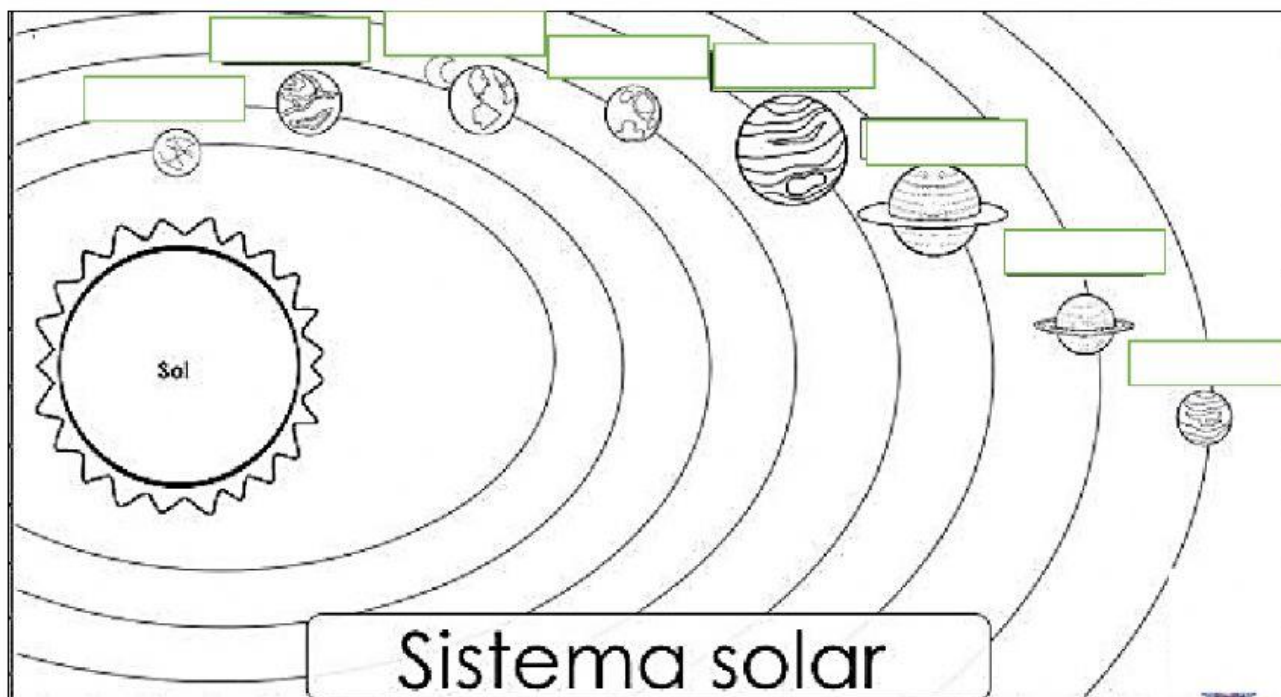
.....  
.....  
.....

- b) Escribe como puede prevenir las enfermedades

.....  
.....  
.....  
.....  
.....  
.....



2. Juan tiene mucha curiosidad por conocer el universo él está armando sus Sistema Planetario Solar, le ayudas a colocar los nombres de los planetas y a dibujar en cinturón de asteroides



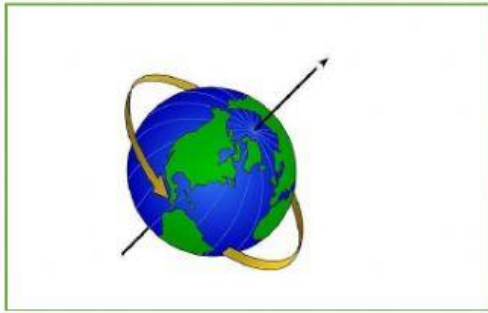
3. Es momento de organizar algunos datos sobre el trabajo de Juan, con ayuda del sistema planetario completamos el siguiente esquema:

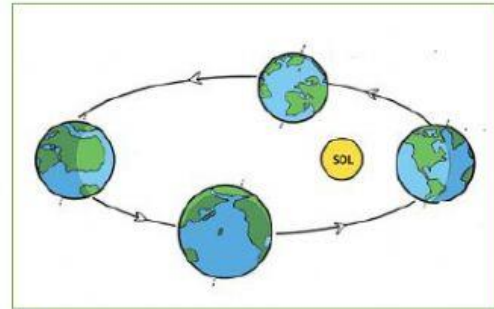
	PLANETAS INTERIORES	PLANETAS EXTERIORES
¿CUÁNTOS SON?		
SU TAMAÑO ES...		
¿SON ROCOSOS O GASEOSOS?		
¿CUÁNTOS TIENEN ANILLOS?		

4. Completamos algunos enunciados:

- El planeta en el que vivimos es llamado.....
- Todos los planetas giran alrededor del .....
- El satélite natural de la tierra que no posee luz propia se llama.....
- Neptuno es un planeta frio porque esta .....

5. Verónica a realizado los siguientes dibujos sobre los movimientos de la tierra, puedes ayudarla a completar los nombres:






6. luego de Observa bien los movimientos de la tierra en los dibujos realizo el siguiente esquema, ayudala a rellenar los espacios en blanco con la información correcta:



6. Unos de los movimientos de la tierra forman las estaciones, puedes indicarme cuales son los nombres de las estaciones:

.....

.....

7. Menciona ¿Cuál estación prefieres? y el ¿por qué?

.....

.....

.....