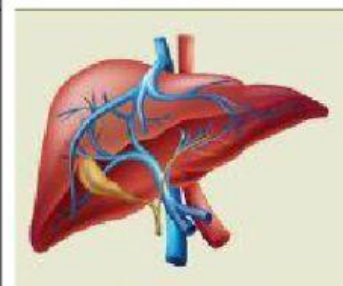
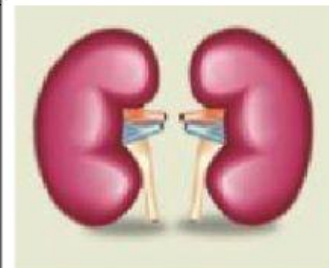
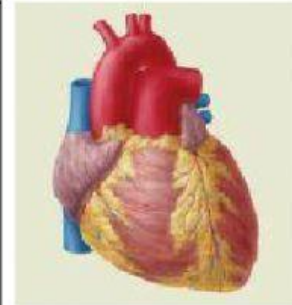


ORGAN DAN SISTEM ORGAN

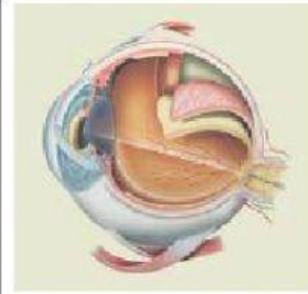
Silakan kerjakan Latihan-latihan soal berikut secara mandiri

1. Tarik Gambar yang benar pada kolom sesuai keterangannya

| No. | Struktur dan fungsi organ | Gambar |
|-----|---|--------|
| 1. | Berfungsi sebagai tempat menawarkan racun yang terbentuk dalam tubuh. Organ ini antara lain terbentuk dari jaringan otot, jaringan pengikat, dan jaringan saraf. | |
| 2. | Memiliki fungsi untuk memompa darah supaya beredar ke seluruh tubuh. Organ ini antara lain terbentuk dari jaringan otot jantung, jaringan pengikat, dan jaringan saraf. | |
| 3. | Organ ekskresi dalam vertebrata yang berbentuk mirip kacang. Sebagai bagian dari sistem urin, ginjal berfungsi menyaring kotoran (terutama urea) dari darah dan membuangnya bersama dengan air dalam bentuk urin. | |



| No. | Struktur dan fungsi organ | Gambar |
|-----|--|--------|
| 4. | Organ ini berfungsi untuk menghirup udara pernapasan, menyaring udara, dan menghangatkan udara pernapasan. | |
| 5. | Organ ini berfungsi untuk melihat. Organ ini antara lain terbentuk dari jaringan otot dan jaringan saraf. | |



2. Tarik garis sesuai dengan pasangannya
a.



Buah

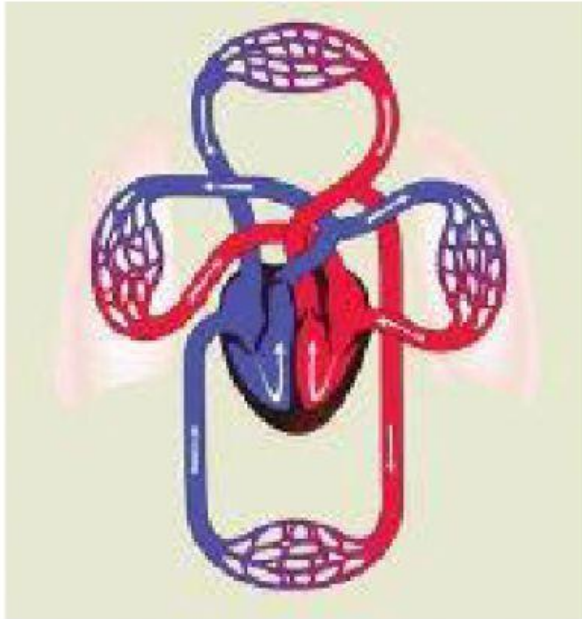
Daun

Akar

Bunga

Batang

b.



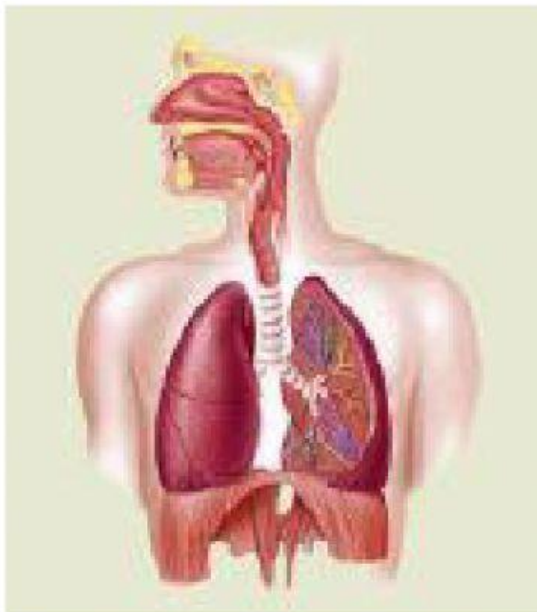
Jantung

Pembuluh darah Vena

Pembuluh darah kapiler

Pembuluh darah arteri
(nadi)

c.



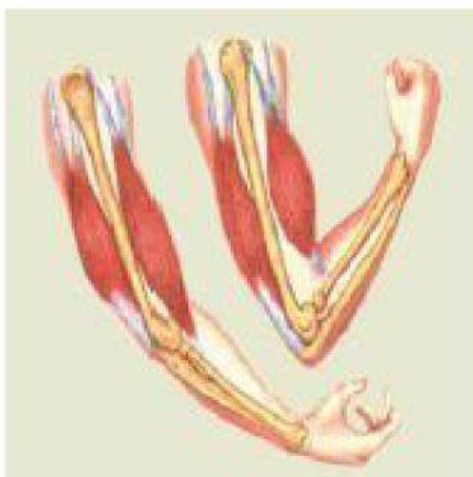
Paru-paru

Tenggorokan

Trakea

Bronkhuis

d.



Otot

tulang