


## DE SUMAS REPETIDAS A MULTIPLICACIONES...

1. Observa cada gráfico. Lee, responde y resuelve.



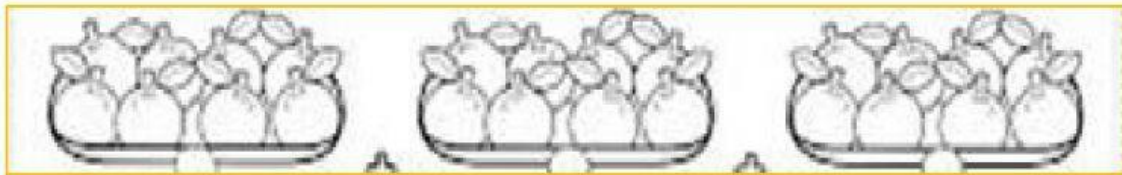
Son **6** bicicletas con **2** ruedas **cada una**.

¿Cuántas ruedas hay en total?

SUMA

MULTIPLICACIÓN

RESPUESTA



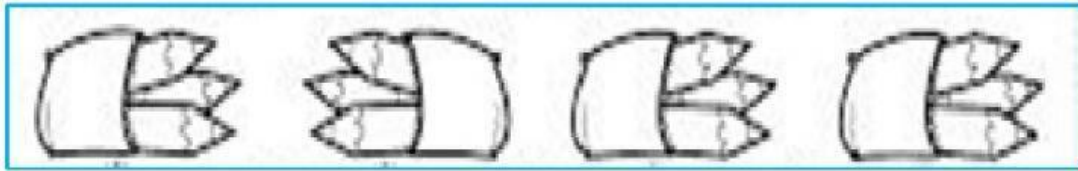
Son **3** bandejas con **8** limones **cada una**.

¿Cuántos limones hay en total?

SUMA

MULTIPLICACIÓN

RESPUESTA



Son 4 cartucheras con 3 lápices cada una.  
¿Cuántos lápices hay en total?

SUMA

MULTIPLICACIÓN

RESPUESTA



Son 2 canastas con 5 naranjas cada una.  
¿Cuántos naranjas son?

SUMA

MULTIPLICACIÓN

RESPUESTA

2. Selecciona pinchando las sumas que pueden expresarse como una multiplicación.  
Escríbela y resuélvela al lado.

$75 + 48 =$

$7 + 7 + 7 =$

$3+3+3+3=$

$8 + 8 =$

$900 + 90 =$

$4+4+4+4+4=$

$11+11+11=$

$50+50+50+50=$

$198 + 190 =$