

Nombre:

Fecha:

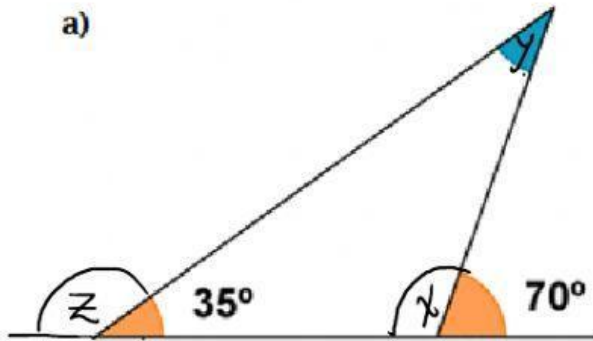
Curso:

Paralelo:

Propiedades de los Triángulos

1. Calcule la medida de los ángulos faltantes "x", "y", "z" en los triángulos propuestos:

a)

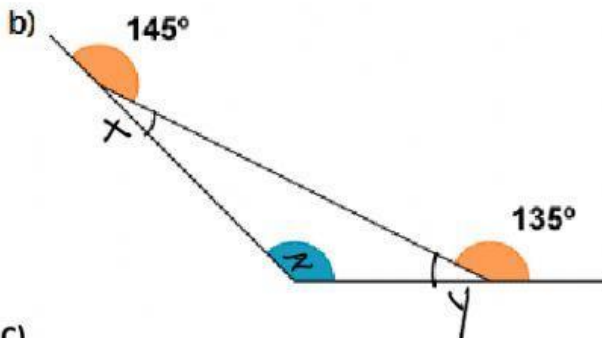


$$\angle x =$$

$$\angle y =$$

$$\angle z =$$

b)

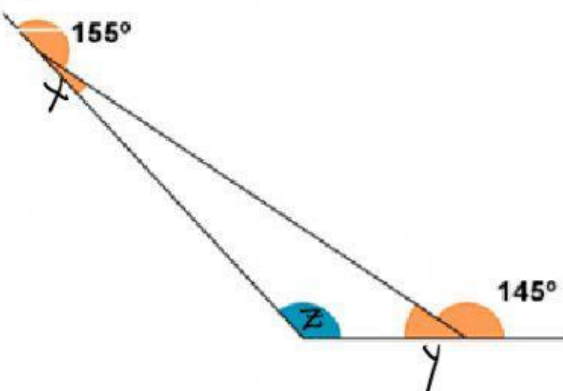


$$\angle x =$$

$$\angle y =$$

$$\angle z =$$

c)

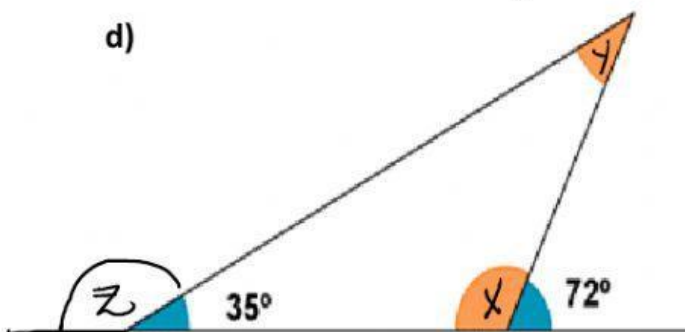


$$\angle x =$$

$$\angle y =$$

$$\angle z =$$

d)



$$\angle x =$$

$$\angle y =$$

$$\angle z =$$