

GINNASIO MODERNO GENERACIÓN DEL FUTURO
EVALUACIÓN FINAL DE MATEMÁTICAS GRADO PRIMERO 1°

NOMBRE: _____ **FECHA:** _____


1. Tacha el elemento que no pertenece y colorea los demás.



2. Escribe mayor >, menor < o igual =, según corresponda.

- a. 25 _____ 120
 b. 58 _____ 19
 c. 1.130 _____ 5.987
 d. 7.500 _____ 7.500
 e. 10.000 _____ 589

3. Observa los dibujos y marca la respuesta correcta.



+

—



- | | |
|------|------|
| a. 6 | a. 3 |
| b. 7 | b. 9 |
| c. 4 | c. 6 |


4. Completa la secuencia:

- a. 222, _____, 224, _____, _____
 b. _____, 997, 998, _____, _____
 c. 2.250, 2.251, _____, _____
 d. 7.532, _____, 7.534, _____

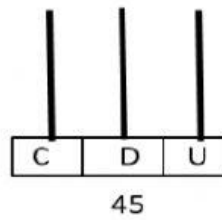
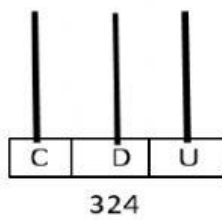
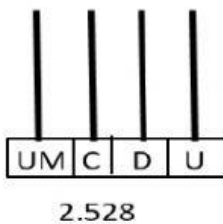
5. Dibuja la hora indicada.

7:00 PM

5:30 AM



6. Dibuja en el ábaco las cantidades indicadas.



7. Resuelve los siguientes problemas:

- a. María José tiene 1.536 bombas y su papa Giovanni le regala 5.262. ¿cuantas bombas le quedaron a María José?

- b. Antonella tiene su fiesta de cumpleaños y tiene como invitados 958 personas, pero tiene solo 536 tarjetas de invitación. ¿Cuántas tarjetas le hacen falta a Antonella para poder invitar a todas las personas?

8. Selecciona a continuación cuantas unidades son una Centena.

- a. 200 unidades

- b. 800 unidades
- c. 100 unidades

9. Dibuja dentro de cada cuadro la línea que se indique.

Línea abierta	Línea cerrada
Línea diagonal	Línea paralela

10. Dibuja una decena dentro del corazón

