

1. Coba tuliskan hasil pengamatanmu tentang rumah yang bersih!

Tuliskan pada isian di bawah ini!

Rumah yang Bersih

.....

.....

.....

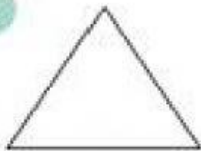
.....

.....

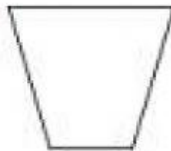
.....

2.


1.




2.



3.



4.



5.



Perhatikan gambar di atas dengan teliti!

Hitunglah banyak sisi, sudut, dan titik sudut pada bangun-bangun datar di atas!

Isikan hasilnya pada tabel berikut! **Jawaban:**

No	Nama Bangun Datar	Banyak Sisi	Banyak Sudut	Banyak Titik Sudut
1	Segitiga Sama Sisi			
2	Trapesium			

3	Persegi			
4	Segitiga Siku-Siku			
5	Trapesium			