


## El número de grupos iguales



¡Hola Somos Carlos y Ximena!

Tenemos un problema, ayer en la escuela nos entregaron 16 lápices y debemos repartirlos entre los dos.

¿Podríamos ayudarnos, a repartir equitativamente los lápices?



**R// Les toca \_\_\_\_\_ lápices a cada uno**


*Ahora debemos dejar ordenar los balones que utilizamos para jugar en el recreo. Los debemos colocar en estas tres canastas y cada una debe tener la misma cantidad.*

*Claro que, cuando jugabamos nos olvidamos de cuantas eran y no sabemos cuantas repartir en cada una.*


*¿Puedes ayudarnos a contar cuántas balones le corresponde a cada canasta?*



**R// Le corresponden a cada canasta \_\_\_\_\_ balones**

Se tiene 30  rojas

¿Cómo las repartirías equitativamente en tres grupos?



**R// Repartiría en cada grupo \_\_\_\_\_ bolitas rojas**